

Nama : .....

No. Absen : .....



**LEMBAGA PENDIDIKAN MAARIF NU GUNUNGKIDUL**

**MADRASAH IBTIDAIYAH YAPPI KARANGPILANG**

*Alamat : Karangpilang Rejosari Semin Gunungkidul 55854*

E-mail : [Mi\\_karangpilang@yahoo.com](mailto:Mi_karangpilang@yahoo.com)

**Berdoalah sebelum mengerjakan!**

**A. Berilah tanda silang (x) pada huruf a, b, c, atau d di depan jawaban yang paling benar!**

- Bangun berikut yang merupakan segi banyak tidak beraturan adalah ....  
a. segi enam beraturan      b. segitiga sama sisi      c. jajargenjang      d. persegi
- Trapesium dan persegi berturut-turut merupakan bangun segi banyak ....  
a. beraturan dan beraturan      c. tidak beraturan dan beraturan  
b. beraturan dan tidak beraturan      d. tidak beraturan dan tidak beraturan
- Perhatikan sifat-sifat bangun datar di bawah ini:

- mempunyai 4 titik sudut
- mempunyai 2 pasang sisi sama panjang
- mempunyai 2 pasang sudut yang sama besar
- mempunyai 4 buah sisi

Sifat yang dimiliki oleh bangun datar layang-layang ditunjukkan nomor ....





- i dan iii      c. i, ii, dan iii
  - ii, iii, dan iv      d. i, ii, dan iv
- Pernyataan berikut merupakan sifat dari segi empat:  
(i) Mempunyai dua pasang sisi sama panjang  
(ii) Dua diagonalnya sama panjang dan saling berpotongan di tengah-tengah  
(iii) Keempat sudutnya siku-siku


Ketiga sifat tersebut merupakan sifat dari...

- Belah ketupat      c. Persegi panjang
- Jajargenjang      d. Trapesium



**Perhatikan diagram gambar Jenis Bunga di Taman berikut! (untuk menjawab soal nomer 15-17)**

Nama Bunga	Banyak Tangkai Bunga
Anggrek	
Mawar	
Melati	
Kamboja	

Keterangan :  mewakili 10 tangkai

12. Banyak bunga anggrek di taman yaitu...
  - a. 15 tangkai
  - b. 20 tangkai
  - c. 25 tangkai
  - d. 30 tangkai
  
13. Bunga yang paling sedikit di taman yaitu. . .
  - a. kamboja
  - b. melati
  - c. mawar
  - d. anggrek
  
14. Bunga yang banyaknya dua kali lipat dari banyak bunga kamboja yaitu...
  - a. mawar
  - b. kamboja
  - c. melati
  - d. anggrek
  
15. Siswa harus mengikuti remedial apabila nilainya kurang dari 80. Banyak siswa yang harus mengikuti remedial yaitu...
  - a. 6 orang
  - b. 15 orang
  - c. 21 orang
  - d. 24 orang

**Perhatikan tabel berikut!**

**Tabel data Olahraga Kegemaran**

**Siswa Kelas IV SD Tunas Bangsa**

Jenis Olahraga	Banyak Siswa
Basket	12
Bulu Tangkis	16
Sepak bola	17

16. Berdasarkan data pada table di atas, olahraga yang paling digemari oleh siswa adalah ....
  - a. Basket
  - b. sepak bola
  - c. bulu tangkis
  - d. basket dan sepak bola

*Mapel Matematika Kls IV*

17. Perhatikan diagram batang berikut



Berdasarkan data tersebut, banyak siswa yang orang tuanya bekerja sebagai pedagang ada ... orang

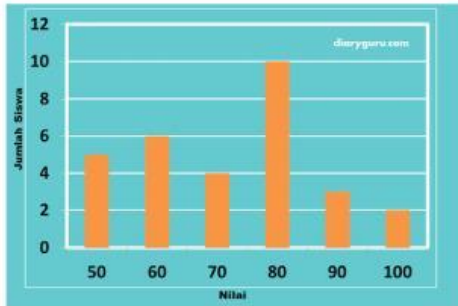
- a. 5
- b. 10
- c. 25
- d. 40

**Perhatikan diagram garis berikut untuk menjawab soal nomor 21 dan 22!**



- 18. Hasil panen padi Desa Mekar tahun 2017-2020 adalah ....
  - a. 37 ton
  - b. 38 ton
  - c. 39 ton
  - d. 40 ton
- 19. Selisih hasil panen padi Desa Mekar paling banyak dan paling sedikit adalah ....
  - a. 7 ton
  - b. 6 ton
  - c. 5 ton
  - d. 4 ton

**Perhatikan diagram batang berikut!**

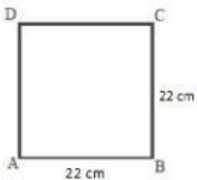


20. Banyak siswa yang mendapatkan nilai ulangan matematika 70 adalah .orang

- a. 2
- b. 3
- c. 4
- d. 5

**B. Isilah titik-titik dengan jawaban yang tepat!**

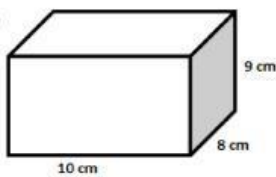
- 21. Diketahui suatu bangun datar berbentuk segitiga, ketiga sudutnya memiliki besar sudut yang berbeda-beda, namun salah satu sudutnya adalah  $90^\circ$  segitiga yang dimaksud adalah.....
- 22. Suatu persegi panjang memiliki panjang 28 cm dan lebar 9 cm maka luasnya adalah.....
- 23. Perhatikan gambar disamping ini keliling bangun datar ini adalah.....



.....

24. Sinta mempunyai kotak pensil berbentuk kubus dengan panjang 18 cm, maka volume kotak pensil sinta adalah.....

25.



Volume bangun ruang disamping adalah.....

.....