



Lembar Kerja Peserta Didik

LKPD

Ilmu Pengetahuan Alam

Bab 5 Ekosistem dan Simbiosis




Nama :

Kelas :

JENIS-JENIS SIMBIOSIS

Tuliskan jenis simbiosis dari gambar berikut!

1




2



3



4



5



6



Mencocokkan Simbiosis Komensalisme

Buatlah garis untuk menghubungkan makhluk hidup dengan yang lainnya agar terbentuk simbiosis komensalisme.



Ikan hiu




Anemon laut



Burung Jalak



Ikan remora



Ikan badut



Kerbau

Hubungan Simbiosis!

Tentukan apakah hubungan simbiosis pada gambar sesuai dengan jenis yang disebutkan! Pilih “benar” atau “salah”!

1. Apakah gambar ini termasuk simbiosis mutualisme?



benar

salah

2. Apakah gambar ini termasuk simbiosis parasitisme?



benar

salah


3. Apakah gambar ini termasuk simbiosis komensalisme?



benar

salah

4. Apakah gambar ini termasuk simbiosis komensalisme?



benar

salah

5. Apakah gambar ini termasuk simbiosis mutualisme?



benar

salah



TEBAK HUBUNGAN SIMBIOSISNYA!



PANDUAN:

Pilih dan ceklis jenis simbiosis yang terjadi pada setiap gambar pasangan makhluk hidup di bawah ini!

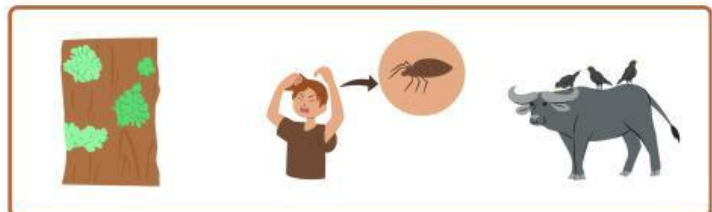
1. Hubungan simbiosis parasitisme.



2. Hubungan simbiosis mutualisme.



3. Hubungan simbiosis parasitisme.



4. Hubungan simbiosis komensalisme.



5. Hubungan simbiosis mutualisme.



Puzzle Symbiosis

Gunting setiap potongan gambar yang tersedia, kemudian susun kembali hingga membentuk gambar yang utuh. Setelah selesai, amati gambar tersebut dan tentukan jenis simbiosis yang terjadi pada makhluk hidup di dalamnya.

