

LKPD

rantai makanan dan
jaring-jaring makanan



Nama: _____

Kelas: _____

Hubungkan susunan rantai makanan,
dengan tingkatan trofik yang tepat.



Konsumen 1



Dekomposer



Produsen



Konsumen 2



Konsumen Puncak

Nama:

Kelas:

RANTAI MAKANAN

Amatilah gambar rantai makanan berikut dan letakkanlah kotak pada posisi yang tepat!

Produsen

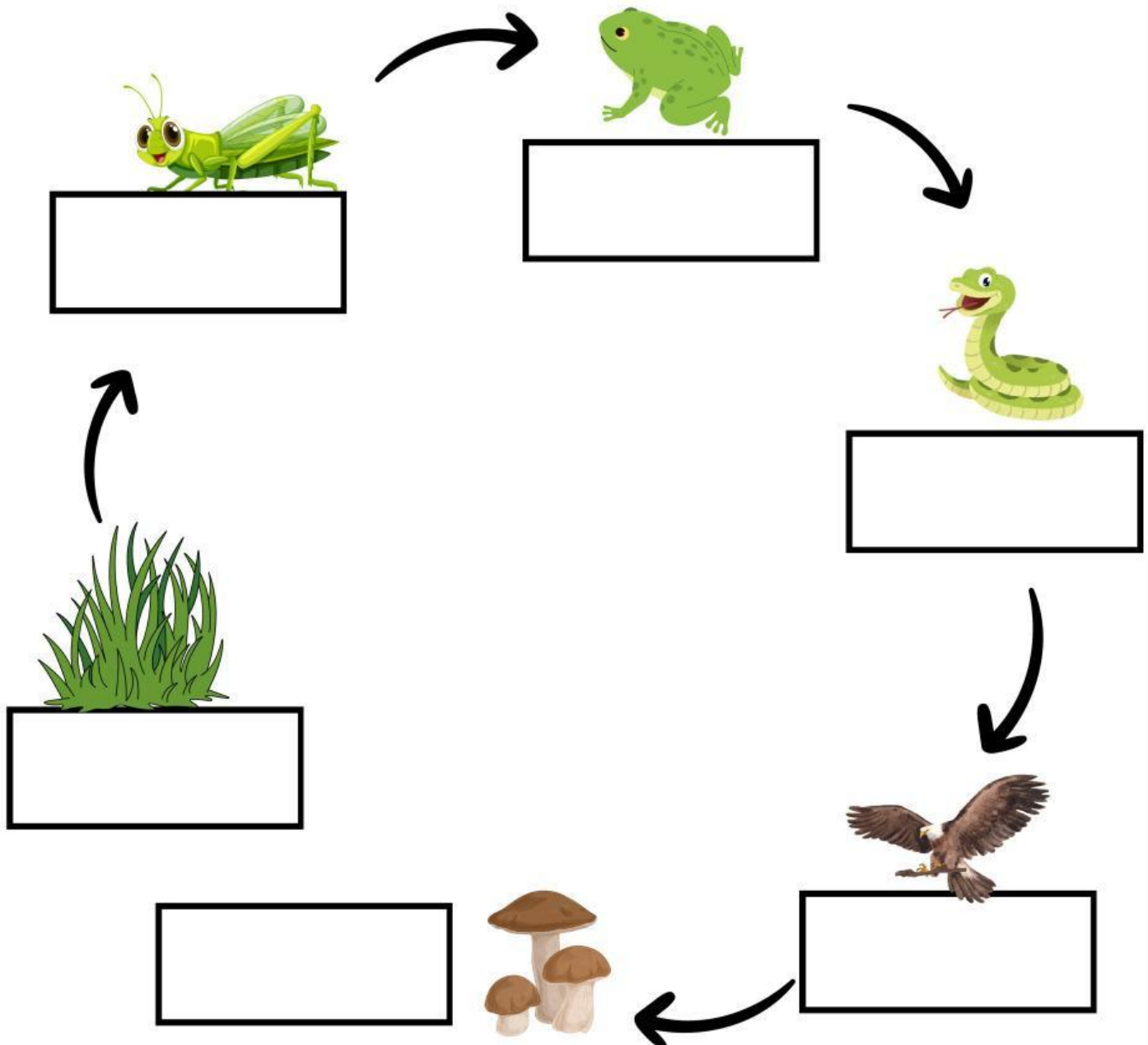
Konsumen Primer

Konsumen Sekunder

Konsumen Tersier

Konsumen Final

Dekomposer























Nama:

Kelas:

LKPD : Lengkapi Rantai Makanan dengan Gambar yang Tepat!

Instruksi: Gunting gambar makhluk hidup di bawah ini, lalu tempelkan pada tempat yang kosong untuk melengkapi rantai makanan dengan benar!

	→		→		→	
	→		→		→	
	→		→		→	
	→		→		→	
	→		→		→	

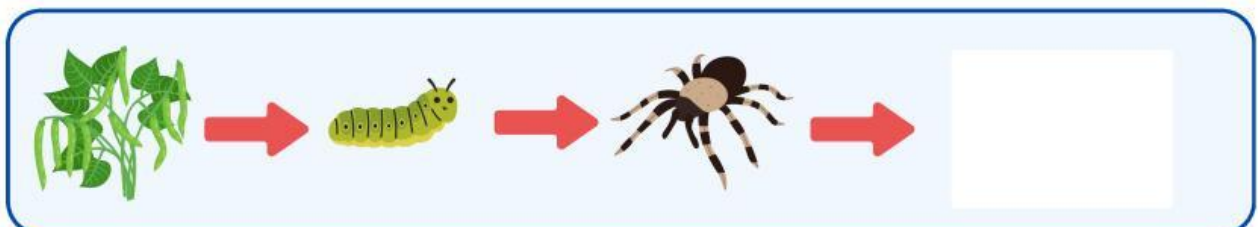
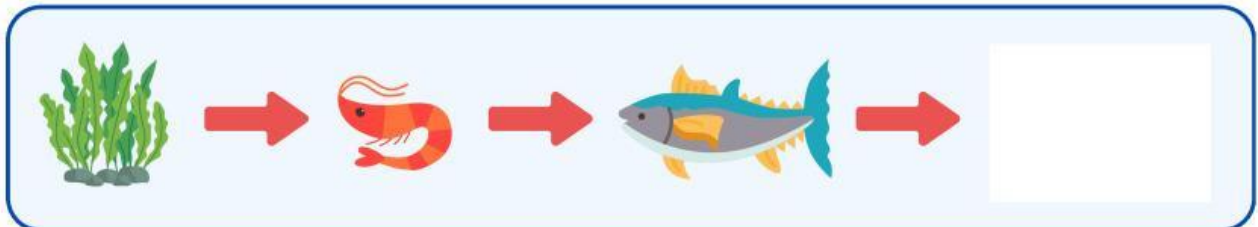


Nama :

Kelas:

RANTAI MAKANAN

Dalam rantai makanan, terdapat produsen, konsumen, dan pengurai yang memiliki peran penting dalam menjaga keseimbangan ekosistem. Tentukan bagian yang kosong pada rantai makanan berikut ini.



Nama :

Tanggal :

RANTAI MAKANAN

Urutkanlah rantai makanan di bawah ini dengan tepat!

