

LEMBAR KERJA PESERTA DIDIK

LKPD

RANTAI MAKANAN

Nama: _____

Kelas: _____



Nama :

Kelas:

MENYUSUN RANTAI MAKANAN

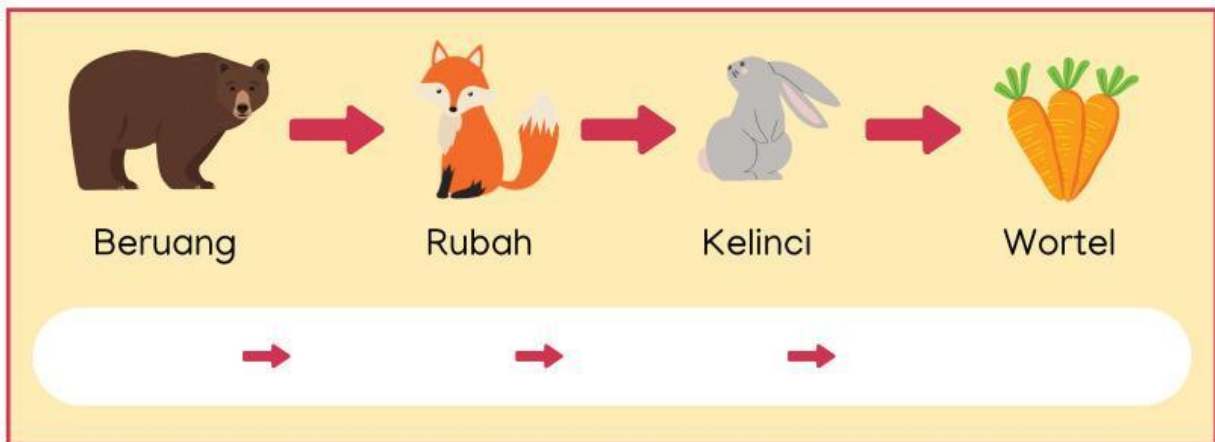
Rantai makanan dalam suatu ekosistem terdiri dari produsen, konsumen, dan pengurai. Susunlah pola rantai makanan di bawah ini agar menjadi urutan yang benar.



Belalang → Rumput → Ular → Katak

→ → →

This block contains a food chain puzzle. At the top, four items are arranged from left to right: a grasshopper (Belalang), a tuft of grass (Rumput), a green snake (Ular), and a green frog (Katak). Red arrows point from each item to the next. Below this sequence is a white rounded rectangular box containing three red arrows pointing to the right, intended for the student to write the correct order of the items.



Beruang → Rubah → Kelinci → Wortel

→ → →

This block contains a food chain puzzle. At the top, four items are arranged from left to right: a brown bear (Beruang), an orange fox (Rubah), a grey rabbit (Kelinci), and three orange carrots (Wortel). Red arrows point from each item to the next. Below this sequence is a white rounded rectangular box containing three red arrows pointing to the right, intended for the student to write the correct order of the items.



Burung Hantu → Elang → Padi → Tikus

→ → →

This block contains a food chain puzzle. At the top, four items are arranged from left to right: a grey owl (Burung Hantu), a bald eagle (Elang), a stalk of rice (Padi), and a grey mouse (Tikus). Red arrows point from each item to the next. Below this sequence is a white rounded rectangular box containing three red arrows pointing to the right, intended for the student to write the correct order of the items.

Nama:

Kelas:

RANTAI MAKANAN

Amatilah gambar rantai makanan berikut dan letakkanlah kotak pada posisi yang tepat!

Produsen

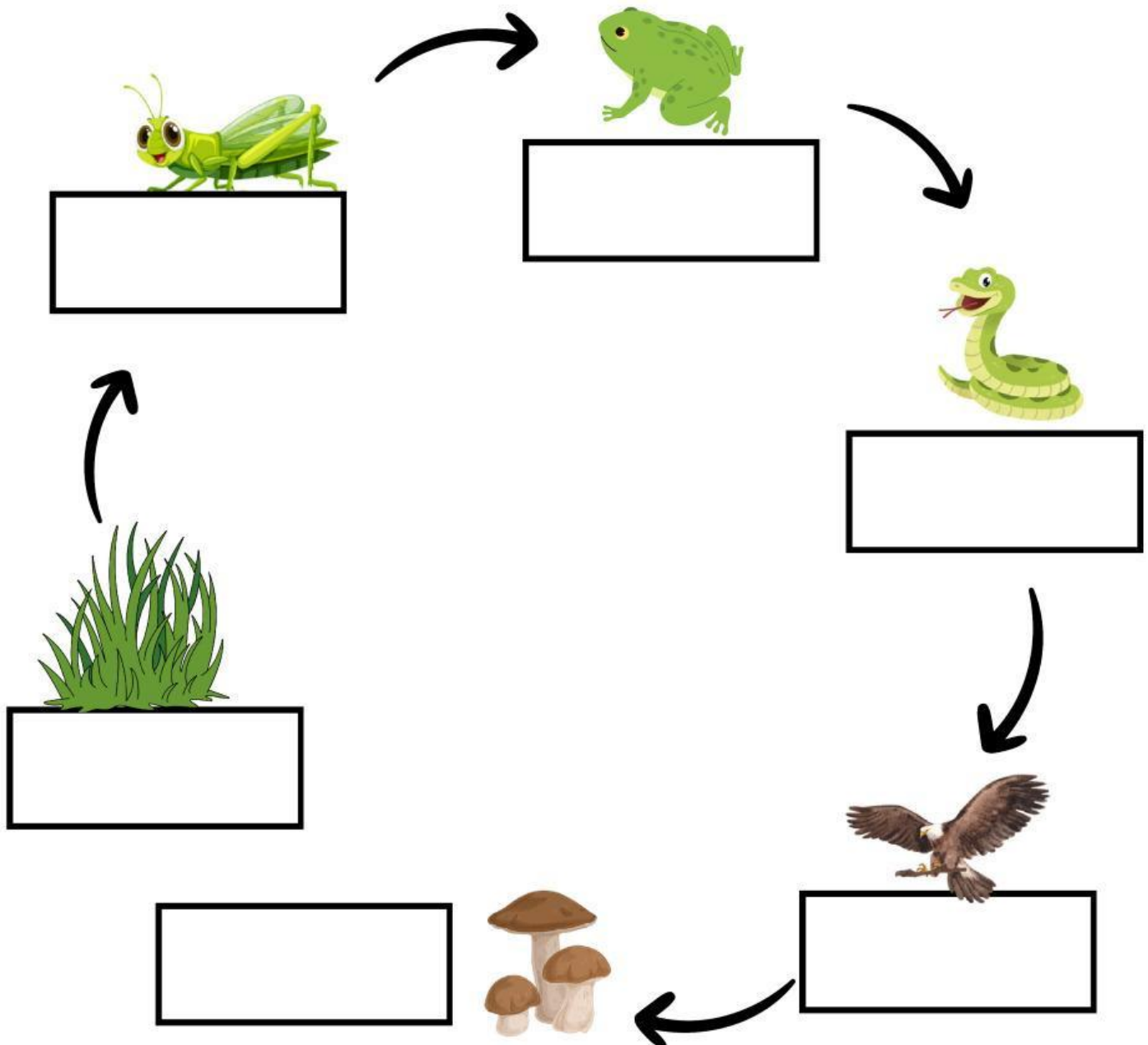
Konsumen Primer

Konsumen Sekunder

Konsumen Tersier

Konsumen Final

Dekomposer




Nama :

Nomor :

RANTAI MAKANAN

Amatilah rantai makanan di bawah ini dengan cermat!



Berilah tanda centang pada kolom benar atau salah berdasarkan pernyataan di bawah ini!


No	Pernyataan	Benar	Salah
1	Rantai makanan tersebut terdapat di ekosistem laut.		
2	Ganggang berperan sebagai produsen.		
3	Produsen dapat menghasilkan makanan sendiri.		
4	Bangau berperan sebagai konsumen tingkat II.		
5	Jika populasi buaya menurun, maka populasi bangau meningkat.		
6	Populasi ikan meningkat, jika populasi bangau meningkat.		
7	Buaya merupakan hewan herbivora.		

RANTAI MAKANAN

Selesaikanlah teka-teki silang dibawah ini!

Nama : _____

Kelas : _____



Mendatar

- 1 Mengurai bangkai makhluk hidup.
- 6 Dibutuhkan tumbuhan untuk proses fotosintesis.
- 7 Makhluk hidup yang berperan sebagai produsen.
- 10 Makhluk hidup yang memakan daging dan tumbuhan.

Gunakan petunjuk di atas untuk menyelesaikan teka-teki silang

Menurun

- 2 Makhluk hidup pemakan daging.
- 3 Dapat menghasilkan makanannya sendiri.
- 4 Makhluk hidup pemakan tumbuhan.
- 5 Makhluk hidup yang memakan makhluk hidup lainnya.
- 8 Hasil penguraian dekomposer yang membuat tanah menjadi subur.
- 9 Makhluk hidup yang berperan sebagai dekomposer.