

FICHA DE APRENDIZAJE DE MATEMÁTICA

NOS DIVERTIMOS CON PATRONES GRÁFICOS.



1.- Observa las 4 primeras figuras de la izquierda e indica la figura que sigue en la serie:

1)			
2)			
3)			
4)			
5)			


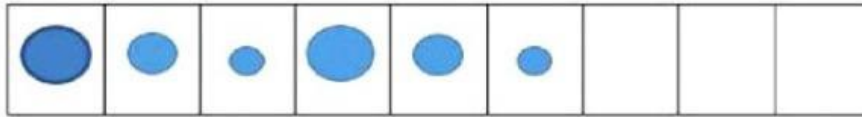
2.- Observa e identifica el patrón luego completa las siguientes secuencias.

--	--	--	--	--	--	--	--	--

--	--	--	--	--	--	--	--

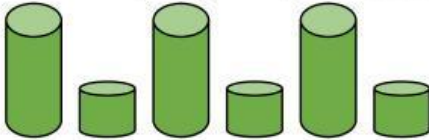
--	--	--	--	--	--	--

"Año de la recuperación y consolidación de la economía peruana"




3.- Observa los patrones de formación y escribe el tipo de criterios que se ha utilizado en cada una:

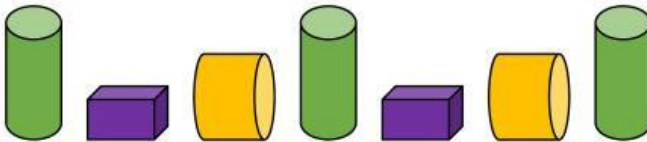
El criterio que sigue es: _____




El criterio que sigue es: _____



El criterio que sigue es: _____



4.- Observa el siguiente grupo de secuencias. Luego, gráfica el elemento

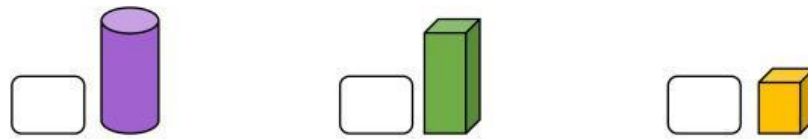
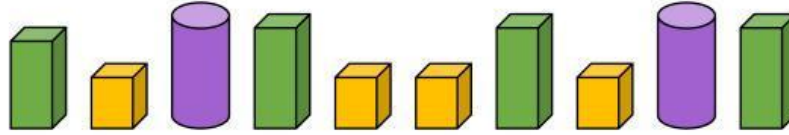


5.- Encierra el objeto que no corresponde a la secuencia. Luego, marca con un aspa (x) la figura correcta.

a.

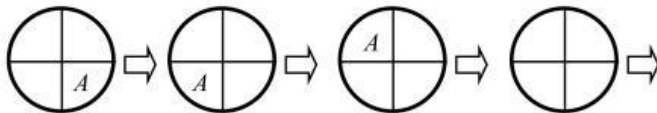


b.

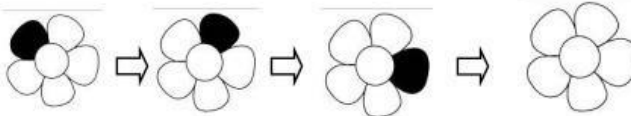


6.- Observa el siguiente las siguientes imágenes, completa el elemento que sigue.

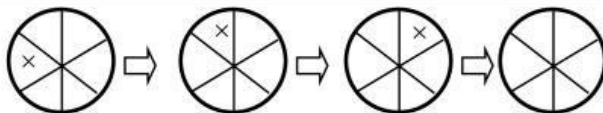
1)



2)



3)



4)

