

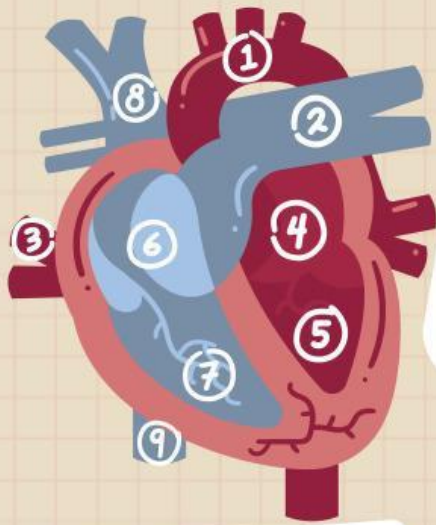
NAMA:

KELAS:

NO:

LENGGKAPI dan Jawablah
Bagian-Bagian

Sistem Peredaran Darah



Bagian-bagian jantung

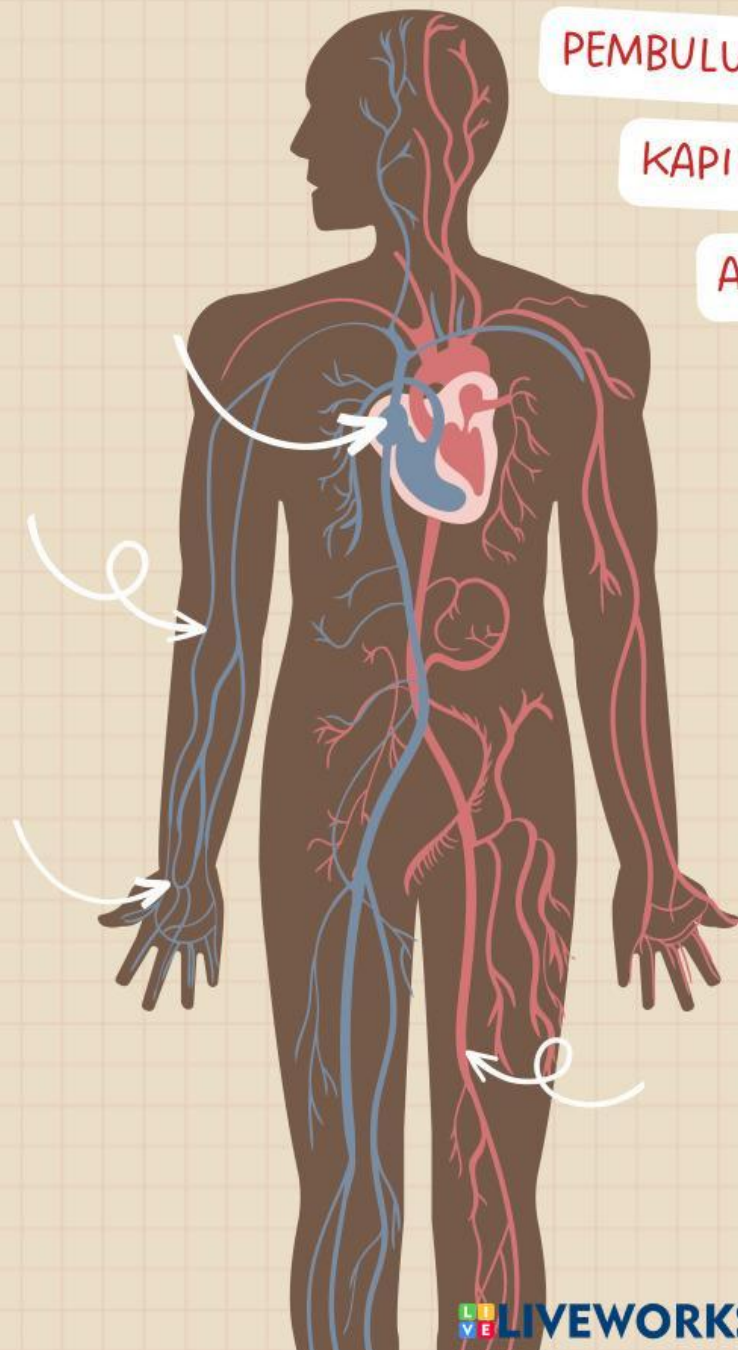
- 1.
- 2.
- 3.
- 4.
- 5.
- 6.
- 7.
- 8.
- 9.

JANTUNG

PEMBULUH DARAH

KAPILER

ARTERI



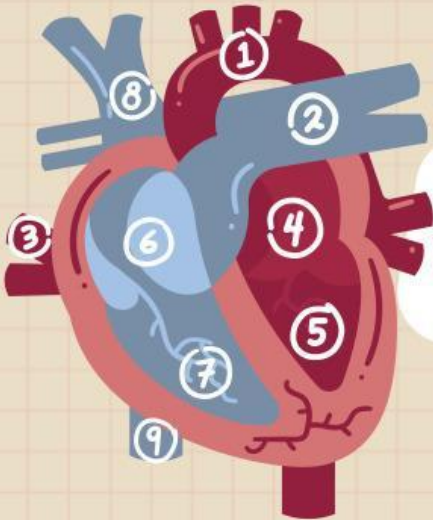
Seseorang mengalami gangguan pada paru-paru sehingga pertukaran oksigen terganggu. Bagian sistem peredaran darah yang paling terdampak adalah

- A. Peredaran darah besar
- B. Peredaran darah kecil
- C. Pembuluh nadi
- D. Serambi kiri

Bagian-Bagian

Sistem

Peredaran Darah



Bagian-bagian jantung

1. Aorta
2. Arteri Pulmonalis
3. Vena Pulmonalis
4. Atrium kiri
5. Ventrikel kiri
6. Atrium kanan
7. Ventrikel Kanan
8. Vena cava superior
9. Vena cava Inferior

JANTUNG

organ otot yang memompa darah

PEMBULUH DARAH

mengangkut darah dari berbagai bagian tubuh ke jantung

KAPILER

sirkulasikan darah, nutrisi, dan oksigen ke berbagai sel organ; menghubungkan arteri ke pembuluh darah

B. Peredaran darah kecil

ARTERI

mengangkut darah dari jantung ke berbagai bagian tubuh

