

Lembar Kerja Peserta Didik

IPA

Komponen Biotik dan Abiotik

Nama: _____

Kelas: _____



Lembar Kerja Peserta Didik

Simak video penjelasan materi tentang Komponen Biotik dan Abiotik untuk menambah wawasan kalian:

Perhatikan materi berikut!



Lembar Kerja Peserta Didik

Setelah menonton dan membaca materi, tuliskan komponen biotik dan abiotik pada ekosistem lingkungan!

Biotik:

Abiotik:



Lembar Kerja Peserta Didik

Jawablah pertanyaan-pertanyaan di bawah ini sesuai petunjuk dengan tepat !

A. Pilihan Ganda

Klik pada jawaban yang benar!

1. Berikut yang termasuk komponen biotik adalah....
 - a. Batu
 - b. Kambing
 - c. Tanah
 - d. Air
2. Komponen makhluk hidup disebut
 - a. Biotik
 - b. Ekosistem
 - c. Abiotik
 - d. Jaring-jaring makanan
3. Komponen biotik dalam ekosistem adalah
 - a. Udara dan cahaya
 - b. Tanah dan air
 - c. Tumbuhan dan hewan
 - d. Angin dan bebatuan



Lembar Kerja Peserta Didik

4. Komponen makhluk tak hidup disebut

- a. Biotik
- b. Ekosistem
- c. Abiotik
- d. Jaring-jaring makanan

5. Perhatikan gambar dibawah ini



Gambar tersebut disebut komponen.....





- a. Ekosistem
- b. Biotik
- c. Abiotik
- d. Rantai makanan



Lembar Kerja Peserta Didik

B. Soal Drag and Drop (Seret dan Lepaskan)

Seret dan lepaskan gambar pada tabel yang telah disediakan.



BIOTIK		
---------------	--	--

ABIOTIK		
----------------	--	--

Lembar Kerja Peserta Didik

C. Soal Menjodohkan

Hubungkan gambar dengan menarik garis sesuai dengan jawaban yang benar.



BIOTIK



BIOTIK



ABIOTIK



BIOTIK

