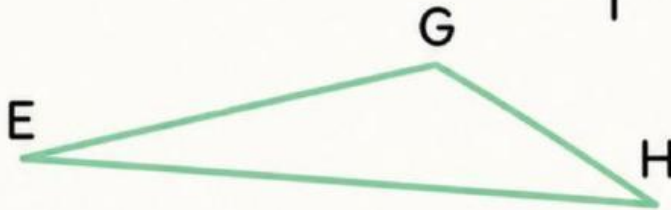
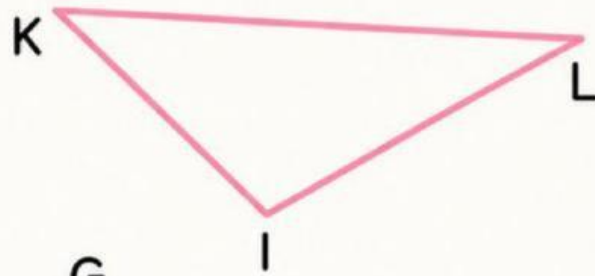


Bài tập 1: Chọn đáp án đúng.



• Hình bên trên là hình Tam giác / Tứ giác ,

có 3 / 4 đỉnh,

là các đỉnh K, L, I / M, H, K ,

có 4 / 3 cạnh,

là các cạnh KI, IL, LK / KH, HL, HK .

• Hình bên dưới là hình Tứ giác / Tam giác ,

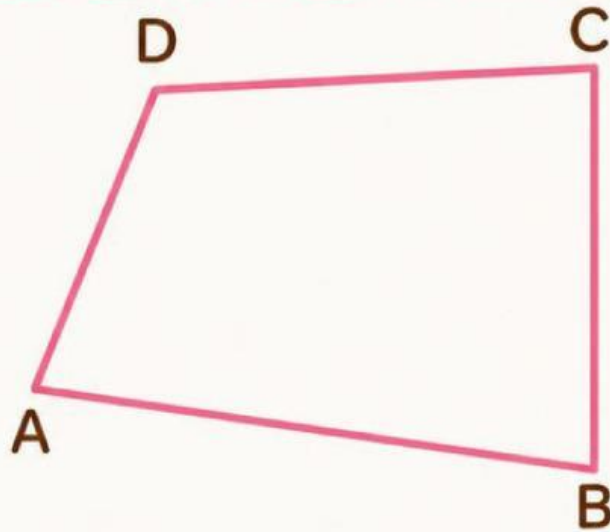
có 3 / 4 đỉnh,

là các đỉnh D, E, F / E, G, H ,

có 4 / 3 cạnh,

là các cạnh HF, GF, EF / EG, GH, HE .

Bài tập 1: Chọn đáp án đúng.



• Đây là hình Tam giác / Tứ giác ,

có 3 / 4 đỉnh,

là các đỉnh D, A, F, G / A, B, C, D ,

có 4 / 3 cạnh,

là các cạnh AB,BC,CD,DA / AB,BC,BD,DA .

• Đây là hình / ,

có / đỉnh,

là các đỉnh / ,

có / cạnh,

là các cạnh / .



Bài tập 2: Chọn đáp án đúng.



Hình tam giác là hình có 3 đỉnh, 4 cạnh.

Đúng Sai



Hình có 4 đỉnh, 4 cạnh là hình tứ giác.

Đúng Sai



Hình có 3 đỉnh, 3 cạnh là hình tam giác.

Đúng Sai



Bài tập 3: Điền vào chỗ trống.



Miếng Pizza có hình:

Mặt bàn có hình:

