

LKPD

Lembar Kerja Peserta Didik

Materi : Zat dan Perubahannya



Nama : _____

Kelas : _____

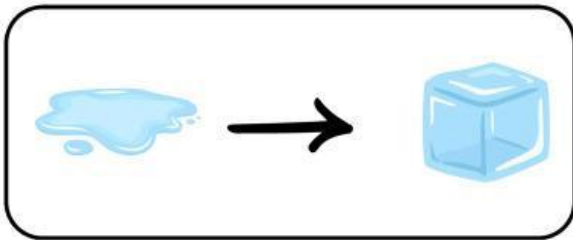


Nama :

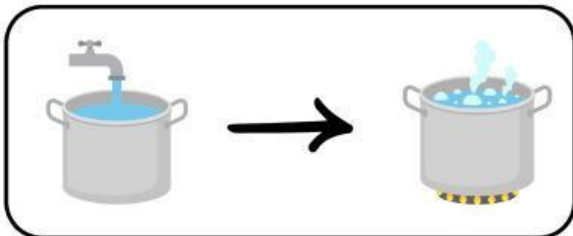
Kelas :

Perubahan Wujud Benda

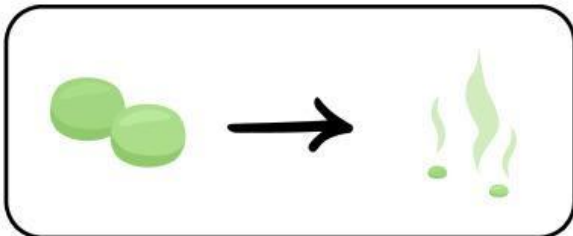
Hubungkan gambar perubahan wujud benda di bawah ini dengan namanya!



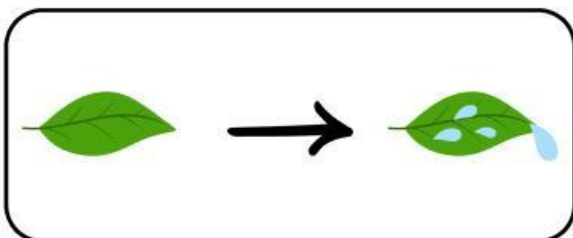
Mengembun



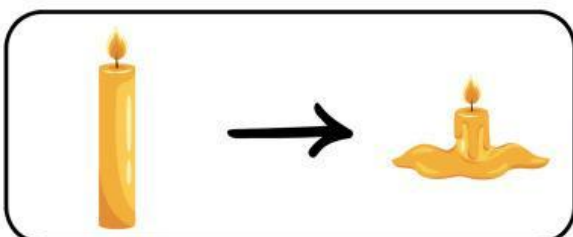
Mencair



Membeku



Menyublim




Menguap

Nama : _____

Kelas : _____

Perubahan Wujud Zat

Tentukanlah perubahan zat yang terjadi dengan mengisi tabel kosong di bawah ini!

Benda	Perubahan Wujud	Dari Zat Menjadi Zat
	Mencair	Padat menjadi cair
		
		
		
		



Nama: _____

Penilaian: _____

Kelas: _____



PERUBAHAN WUJUD BENDA

Jawablah pertanyaan berikut dengan penjelasan singkat.

1

Sebutkan tiga sifat utama benda padat, cair, dan gas!

Jawab: _____



2

Bandingkan perubahan wujud lilin yang meleleh dan air yang membeku! Apa perbedaannya?

Jawab: _____



3

Tuliskan contoh peristiwa menguap, menyublim, dan mengembun yang terjadi di rumahmu!

Jawab: _____



4

Mengapa balon bisa pecah jika dibiarkan di bawah terik matahari terlalu lama? Jelaskan dengan alasan ilmiah!

Jawab: _____



Kritik/Saran: _____

Paraf: _____