

Nama :

---

# MENYUSUN URUTAN KEGIATAN

Cocokkan gambar berikut sesuai nomor urutan kegiatan yang benar!



•

•

1



•

•

2



•

•

3



•

•

4

Nama:

Tanggal:

## Memasak Mi Instan

Berilah nomer pada tabel sesuai urutan tata cara untuk memasak mi instan di bawah ini!



Panaskan panci berisi air



Aduk mi agar bumbu tercampur merata



Mi instan siap dihidangkan



Aduk mi dan sayur hingga matang



Masukkan mi setelah air mendidih



Tuangkan mi ke dalam mangkuk



Tuangkan bumbu







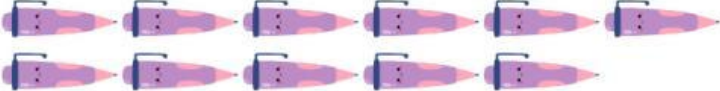
Siapkan mi instan



Masukkan telur dan sayuran

# Mengurutkan dan Membandingkan Data

Perhatikan tabel berikut, hitunglah jumlahnya dan jawab pertanyaan di bawah ini.

Alat Tulis	Jumlah
	
	
	
	
	

## Pertanyaan:

1. Apa alat tulis yang memiliki jumlah paling sedikit?

Jawab: \_\_\_\_\_

2. Apa alat tulis yang memiliki jumlah paling banyak?

Jawab: \_\_\_\_\_

3. Apa alat tulis yang memiliki jumlah berada di tengah-tengah?

Jawab: \_\_\_\_\_

4. Berapa banyak jumlah seluruh alat tulis?

Jawab: \_\_\_\_\_

5. Hitunglah perbandingan antara alat tulis yang paling banyak dan yang paling sedikit jumlahnya!

Jawab: \_\_\_\_\_