



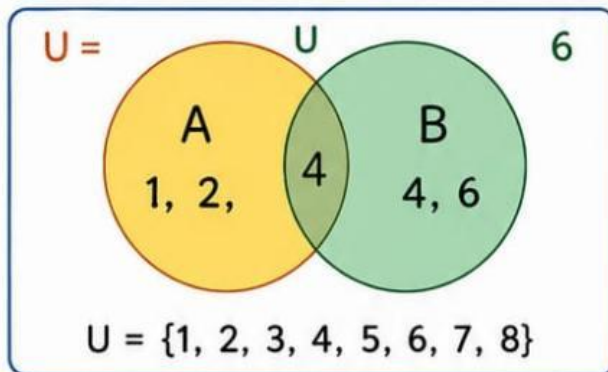
LKM Menggambar Diagram Venn

Metode BBL: Pra-Pemaparan – Akuisisi – Elaborasi – Formasi Memori



1 Pra-Pemaparan

Pesan Utama: Apa itu diagram Venn?



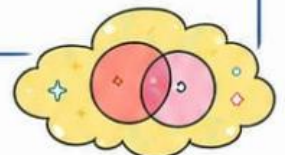
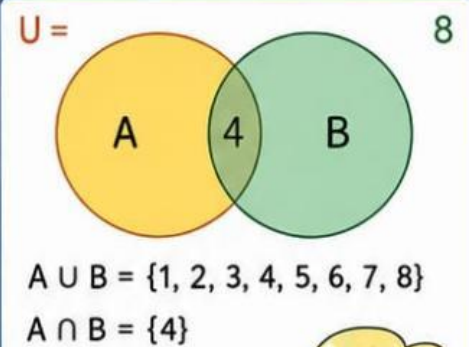
Menurut kalian,
di mana kita bisa menemukan
diagram seperti ini?



2 Akuisisi

Pengetahuan: Aturan Dasar Diagram Venn

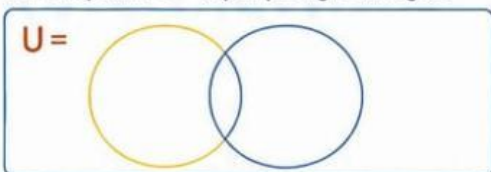
- Perhatikan gambar diagram Venn di samping.
- Sebutkan anggota himpunan A dan himpunan B!
- Bagian yang beririsan menunjukkan anggota yang sama dari kedua himpunan. Anggota apakah itu?
- Tentukan hasil dari:
 - $A \cup B$ (gabungan A dan B)
 - $A \cap B$ (irisan A dan B)
- Arsirlah daerah yang menunjukkan $A \cup B$!
- Arsirlah daerah yang menunjukkan $A \cap B$!



3 Elaborasi

Praktik: Gambar diagram berdasarkan soal berikut:

Misalkan Himpunan A = {apel, jeruk, mangga},
dan Himpunan B = {apel, pisang, semangka}



Jawaban:



4 Formasi Memori

Pengulangan: Sebutkan cara menggambar diagram Venn.

- _____
- _____



5 Integrasi Fungsional

Penerapan: Contoh Venn dalam Kehidupan Sehari-hari

Tuliskan contoh diagram Venn dalam kehidupan sehari-hari!

