

LKPD

MATEMATIKA

Kelas 3 Sekolah Dasar



Nama:

Kelas:

TUJUAN PEMBELAJARAN

1. Peserta didik mampu memahami konsep penjumlahan dan pengurangan bilangan.
2. Peserta didik mampu menyelesaikan soal cerita sederhana.
3. Peserta didik mampu bekerja sama dalam kelompok.



<https://youtu.be/OhPRfqPFtt8?si=q9kbpB8brKsXa168>

ORIENTASI MASALAH

Siti pergi ke toko alat tulis. Ia membeli 3 buku tulis dengan harga Rp5.000 setiap buku dan 2 pensil dengan harga Rp2.000 setiap pensil. Berapa total uang yang harus dibayar Siti?

Jawab:





.....
.....
.....

Nama:

Kelas:

PENGURANGAN



Selesaikan pengurangan di bawah ini, lalu tuliskan jawabanmu di kotak yang telah disediakan!



Nama:

Kelas:

Menghubungkan Dua Angka yang Jumlahnya 5



Nama :

Kelas :

MENCARI KATA

Temukan 8 kosakata Warna dari dari tabel huruf berikut!

H	B	N	H	Y	P	H	C	B	D
U	U	M	I	P	U	U	M	U	U
A	D	C	J	A	N	I	E	A	A
K	U	N	I	N	G	J	R	K	P
D	E	Q	D	D	U	K	A	D	U
B	D	H	T	B	Q	G	H	B	T
N	G	Z	H	I	J	A	U	N	I
M	E	R	W	R	H	L	C	J	H
Y	J	C	Y	U	H	I	T	A	M
F	O	R	E	N	F	W	J	T	O

- 
- Merah
 - Putih
 - Hitam
 - Biru
 - Ungu
 - Hijau
 - Oren
 - Kuning

