

# LKPD

## Matematika

Tema: Mengenal Bentuk


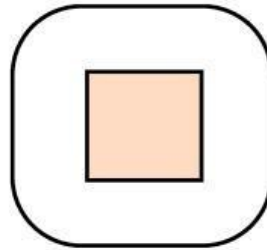
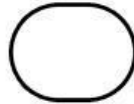
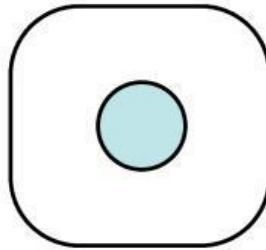

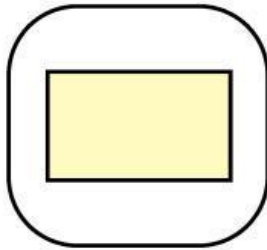
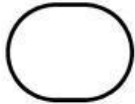
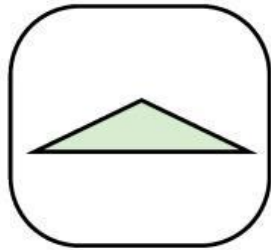
Nama: \_\_\_\_\_ Kelas: \_\_\_\_\_




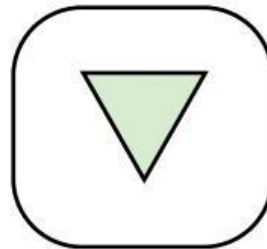

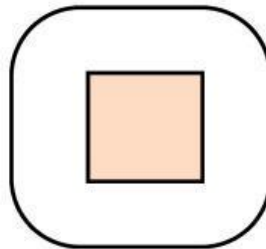

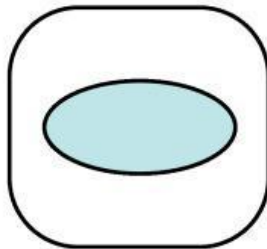

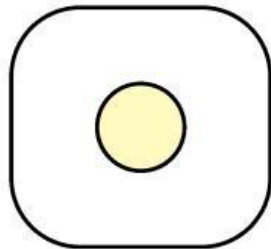
# Pilih Bentuk Sesuai Namanya

Perhatikan nama bentuk kemudian berilah tanda centang (v) pada bentuk yang sesuai.


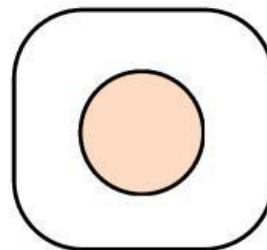
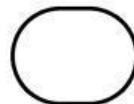

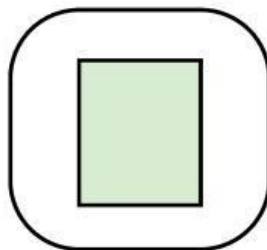
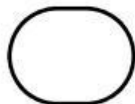

Segi empat



Segitiga

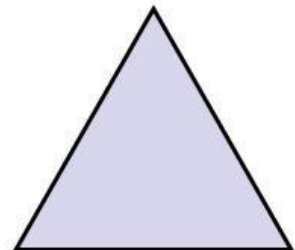



Bentuk lengkung



# Pasangkan Benda dengan Bentuknya

Tarik garis pada benda yang memiliki bentuk yang sama dengan bentuk di sebelah kanan.



# Menemukan Bentuk di Sekitar








Pindahkan benda acak berikut yang memiliki bentuk sesuai yang ada di dalam kotak.



Segi empat

Bentuk lengkung

Segitiga



# Pilihlah Jawaban yang Benar!

Perhatikan soal dan pilihlah jawaban yang benar dan sesuai

1. Perhatikan gambar berikut!



Gambar yang berbentuk lengkung yaitu nomor....

- a. 1
- b. 2
- c. 3

2. Perhatikan gambar berikut!



Benda di atas berbentuk....

- a. Segitiga
- b. Segi empat
- c. Lengkung

3. Perhatikan gambar berikut!



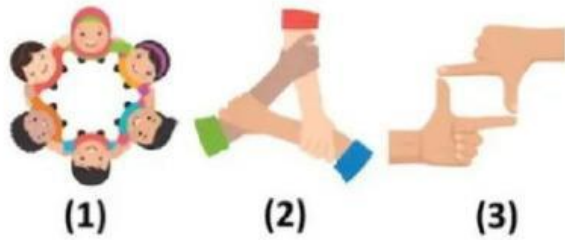
Lina memiliki makanan seperti gambar di samping. Makanan milik Lina berbentuk....

- a. Segitiga
- b. Segi empat
- c. Lengkung

# Pilihlah Jawaban yang Benar!


Perhatikan soal dan pilihlah jawaban yang benar dan sesuai

4. Bentuk segi empat yang dibuat dengan tangan yaitu nomor...



- a. 1
- b. 2
- c. 3

5. Perhatikan gambar berikut!



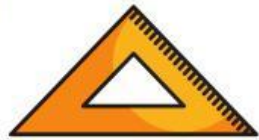


Gambar di samping tersusun atas ..... segitiga

- a. 4
- b. 5
- c. 6

# Menemukan Bentuk di Sekitar

Tuliskan benda acak berikut yang memiliki bentuk sesuai yang ada di dalam tabel.



Segi empat

Bentuk lengkung

Segitiga