

Nama:

Kelas:

NILAI MATA UANG INDONESIA

Tuliskan nilai mata uang berikut beserta cara penyebutannya!

Nilai mata uang:

Cara penyebutan:



Nilai mata uang:

Cara penyebutan:



Nilai mata uang:

Cara penyebutan:



Nilai mata uang:

Cara penyebutan:



Nilai mata uang:

Cara penyebutan:



Nilai mata uang:

Cara penyebutan:



Nama :


Kelas :

Berapa Jumlah Uangku?


Hitunglah jumlah uang di bawah ini dan tuliskan hasilnya sesuai nilai mata uang rupiah!



=




=



=



=



=

Nama: _____

Kelas: _____



MENGHITUNG UANG

Petunjuk: Jumlahkan seluruh nilai uang sesuai pecahan yang disebutkan untuk menemukan totalnya.

1

Aku mempunyai uang lima ratusan 3 koin dan seribuan 2 lembar. Berapa jumlah uangku?

Rp _____

2

Putri mendapat uang jajan dari ayah berupa dua ribuan 5 lembar. Berapa total uang jajan Putri?

Rp _____

3

Ibu memberikan uang dua ribuan 5 lembar dan lima ribuan 3 lembar. Berapa total uang yang diberikan Ibu?

Rp _____

4

Aku punya uang sepuluh ribuan 2 lembar, dua puluh ribuan 1 lembar, dan dua ribuan 2 lembar. Berapa uangku?

Rp _____

5

Kotak celenganku ada lima ratusan 6 koin, dua ribuan 5 lembar, dan lima ribuan 3 lembar. Berapa uang di celenganku?

Rp _____

6

Andi memiliki uang dua ribuan 10 lembar, lima ribuan 5 lembar, dan lima puluh ribuan 2 lembar. Berapa jumlah uang Andi?

Rp _____