



---

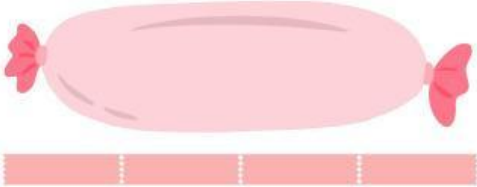
Perhatikan gambar hewan di bawah ini. Temukan tinggi hewan tersebut dengan menjawab pertanyaan berikut.




- 1 Tinggi bebek \_\_\_\_\_ kotak
- 2 Tinggi kambing \_\_\_\_\_ kotak
- 3 Tinggi jerapah \_\_\_\_\_ kotak
- 4 Hewan yang paling tinggi adalah \_\_\_\_\_
- 5 Hewan yang paling pendek adalah \_\_\_\_\_

# PENGUKURAN PANJANG DENGAN SATUAN TAK BAKU

Tentukan hasil pengukuran panjang benda berikut.



Panjang guling = \_\_\_\_ solatip.




Panjang sapu = \_\_\_\_ solatip.



Panjang gitar = \_\_\_\_ paku.



Panjang sisir = \_\_\_\_ paku.



Panjang pensil = \_\_\_\_ korek api.