

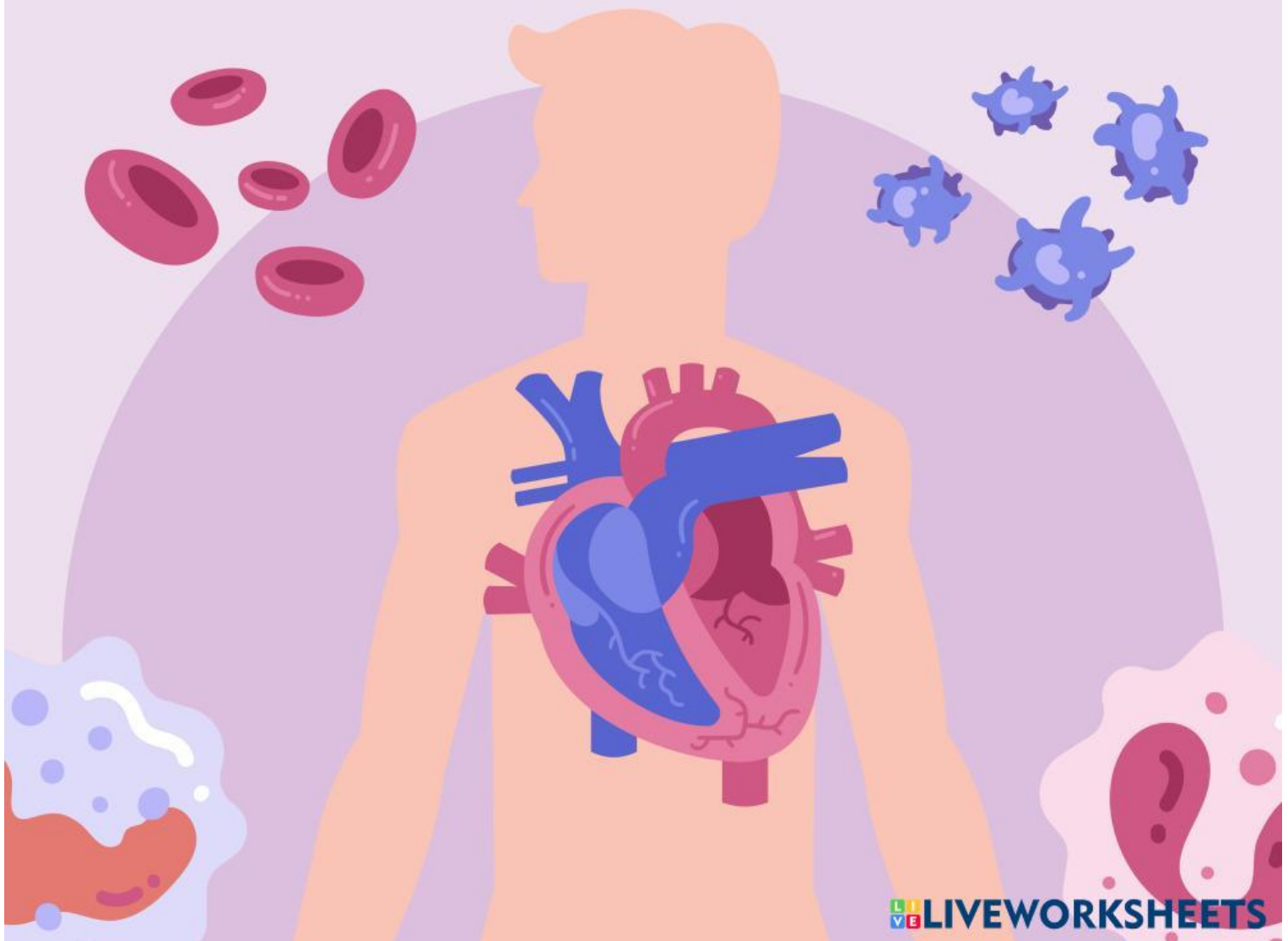
Lembar Kerja Peserta Didik

IPAS

Sistem Peredaran Darah Manusia

Nama: _____

Kelas: _____





Kegiatan 1 Mengamati

Perhatikan gambar sistem peredaran darah manusia yang ditunjukkan guru, lalu jawablah pertanyaan berikut!

Pertanyaan:

1 Organ apa yang berfungsi memompa darah?

Jawab: _____

2 Apa fungsi darah bagi tubuh?

Jawab: _____

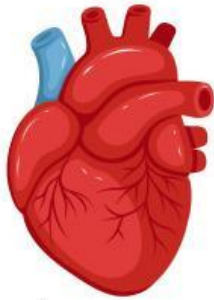
3 Mengapa jantung sangat penting bagi manusia?

Jawab: _____



Kegiatan 2 Menjodohkan


Pasangkan dengan benar!



Jantung




- Membawa oksigen



Darah



- Tempat mengalir darah



Pembuluh
Darah



- Memompa darah



Kegiatan 3 Pilihan Ganda

Berilah tanda silang (X) pada jawaban yang benar!

Pertanyaan:

- 1 Organ yang berfungsi memompa darah adalah
 - a. paru-paru
 - b. jantung
 - C.Lambung

- 2 Pembuluh darah berfungsi untuk
 - a. mencerna makanan
 - b. memompa darah
 - c.tempat mengalir darah

- 3 Darah membawa ke seluruh tubuh.
 - a. oksigen
 - b. tanah
 - c. batu

- 4 Agar jantung sehat, kita harus
 - a. malas olahraga
 - b. makan sembarangan
 - c. rajin berolahraga

- 5 Peredaran darah manusia termasuk peredaran darah
 - a. terbuka
 - b. tertutup
 - c. bebas



Kegiatan 4 Isian Singkat

Pertanyaan:

- 1 Jantung terletak di dalam rongga

- 2 Darah mengalir melalui

- 3 Olahraga membuat organ peredaran darah menjadi
