

# LKPD

Matematika Kelas 1

Penjumlahan dan Pengurangan  
Sampai dengan 20

Nama: \_\_\_\_\_ Kelas: \_\_\_\_\_

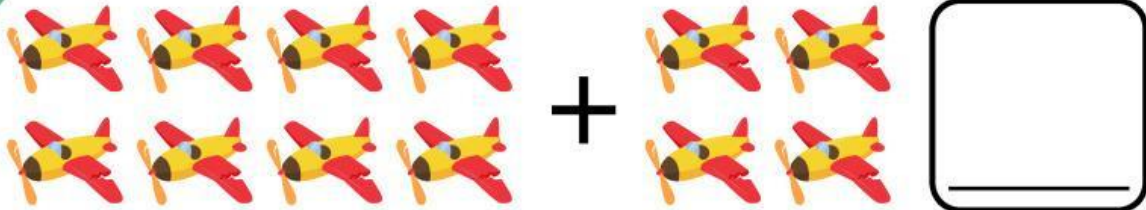




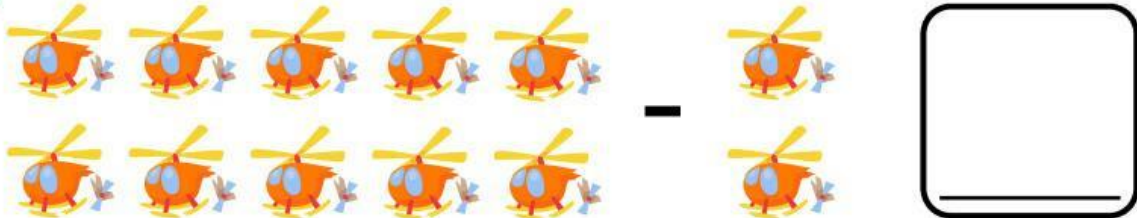
## Hitung Benda

- Hitunglah benda di bawah ini lalu jawablah dengan benar!

1



2




3



4



5





## Lengkapi Jawaban

- Jawablah pertanyaan di bawah ini dengan benar!

1

$$5 + 9 =$$

2

$$21 - 7 =$$

3

$$5 + 9 =$$

4

$$20 - 9 =$$

5

$$7 + 11 =$$



## Soal Cerita

- Bacalah soal cerita dibawah ini lalu jawablah pertanyaannya!

1



Rina punya 8 pensil. Ibu membelikan lagi 7 pensil. Berapa jumlah pensil Rina sekarang?

2



Budi memiliki 15 kelereng. Ia memberikan 6 kelereng kepada temannya. Berapa kelereng Budi yang tersisa?

3



Ani mempunyai 12 permen. Lalu temannya memberi 5 permen lagi. Berapa jumlah permen Ani sekarang?

4



Deni punya 20 balon. Balon itu pecah 9 buah. Berapa balon Deni yang masih ada?

5



Lani membeli 10 roti, lalu adiknya membeli 4 roti lagi. Berapa jumlah roti mereka semua?

# BERHITUNG JUMLAH

Hitung banyaknya jumlah dari masing-masing gambar, isikan di kotak yang sudah tersedia!

