

Nama :

Kelas :

PENJUMLAHAN MATEMATIKA

Kerjakanlah operasi hitung penjumlahan matematika di bawah ini dengan tepat!

$$\begin{array}{r} 43 \\ + 9 \\ \hline \square\square \end{array}$$

$$\begin{array}{r} 20 \\ + 1 \\ \hline \square\square \end{array}$$

$$\begin{array}{r} 33 \\ + 4 \\ \hline \square\square \end{array}$$

$$\begin{array}{r} 43 \\ + 8 \\ \hline \square\square \end{array}$$

$$\begin{array}{r} 43 \\ + 7 \\ \hline \square\square \end{array}$$

$$\begin{array}{r} 52 \\ + 5 \\ \hline \square\square \end{array}$$

$$\begin{array}{r} 81 \\ + 3 \\ \hline \square\square \end{array}$$

$$\begin{array}{r} 42 \\ + 5 \\ \hline \square\square \end{array}$$

$$\begin{array}{r} 48 \\ + 9 \\ \hline \square\square \end{array}$$

$$\begin{array}{r} 37 \\ + 4 \\ \hline \square\square \end{array}$$

$$\begin{array}{r} 44 \\ + 9 \\ \hline \square\square \end{array}$$






$$\begin{array}{r} 48 \\ + 1 \\ \hline \square\square \end{array}$$

Nama:

Kelas:

Ayo Latihan Berhitung

Selesaikan setiap soal hitung dengan cermat dan isi jawaban pada tempat yang telah disediakan!

	2	+	3	=					
						-			
	=	3	-				4	=	
-				=					+
4				2	+		=	6	
=									
	+	8	=		+	2	=		
									-
2	+		=	6	+				5
=									=
						=	2	-	
-									
3	=		-	5	=				

Nama:

Kelas:

PENJUMLAHAN

Jumlahkan gambar di bawah ini lalu tuliskan jawabanmu di kotak yang telah di sediakan!

