



Lembar Kerja Peserta Didik

LKPD

MATEMATIKA

PENGUKURAN PANJANG DENGAN SATUAN BAKU



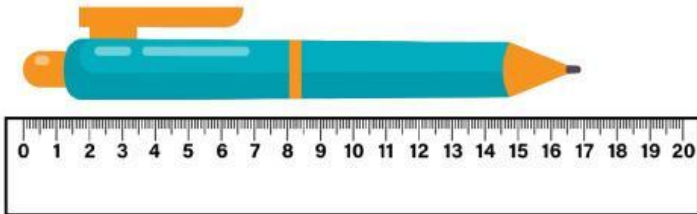
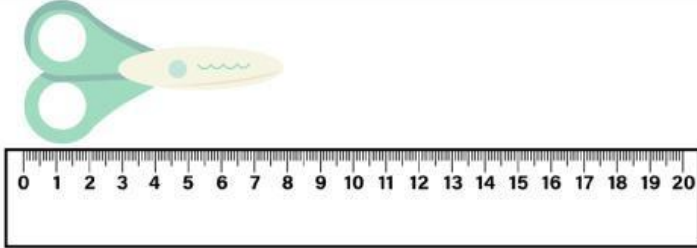
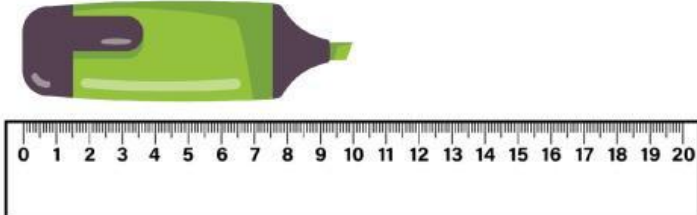
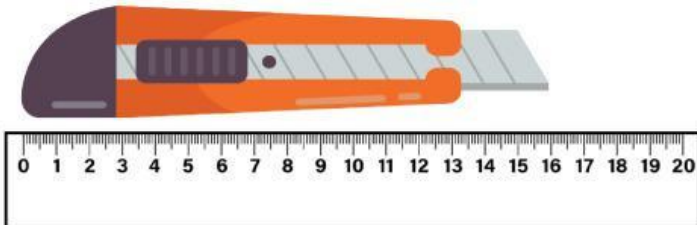
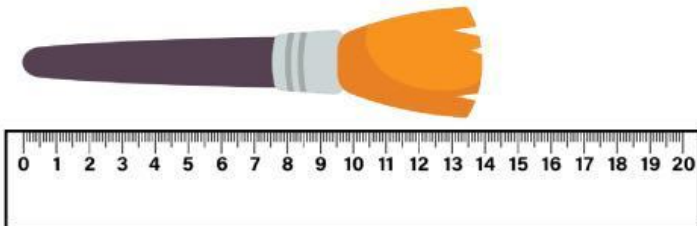
Nama:

Kelas:

LKPD

Mengukur Benda

Ukur panjang benda di bawah ini dan tuliskan hasilnya pada tabel di sebelahnya.

Pengukuran panjang benda	Satuan baku
	_____ cm
	_____ cm
	_____ cm
	_____ cm
	_____ cm

PENGUKURAN PANJANG BENDA

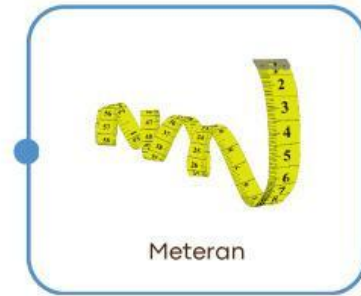


Kerjakan soal-soal berikut sesuai perintahnya!

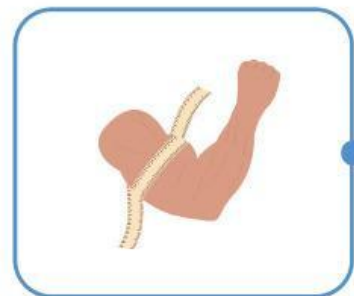
Pasangkan gambar pengukuran panjang benda dengan alat ukur yang tepat.



Penggaris



Meteran



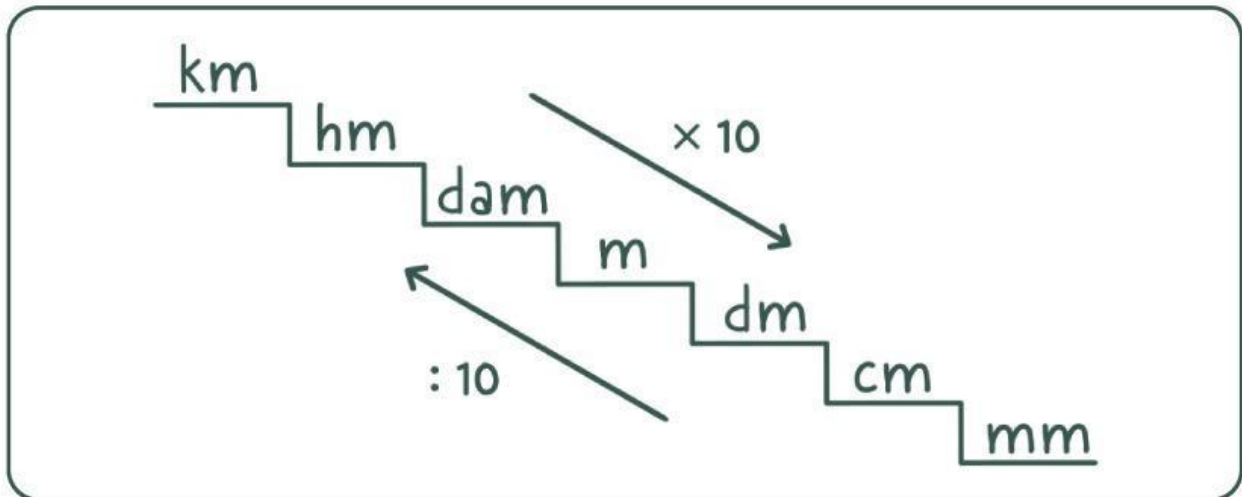
Meteran gulung



Pengukur tinggi badan

SATUAN PANJANG

Perhatikan gambar tangga konversi satuan panjang di bawah ini kemudian kerjakan soal dengan tepat!



- 25 km = _____ m
- 20 hm = _____ cm
- 200 cm = _____ m
- 3 dm = _____ mm
- 40 m = _____ cm
- 300 mm = _____ dm
- 15 dam = _____ cm
- 8 km = _____ dm
- 15 hm = _____ dam
- 15 km = _____ cm





SOAL EVALUASI

PENGUKURAN PANJANG DENGAN SATUAN BAKU

jawab pertanyaan tersebut dengan memberikan warna pada lingkaran jawaban yang paling tepat



1. Satuan baku untuk mengukur panjang adalah

- Kilogram
- Liter
- Meter
- Detik

2. Alat yang biasa digunakan untuk mengukur panjang adalah

- Termometer
- Timbangan
- Penggaris
- Stopwatch



3. Rika memiliki pensil dengan panjang 15 cm, berarti panjang pensil itu

- 15 meter
- 15 liter
- 15 sentimeter
- 15 kilogram



4. Meja di rumah Roni panjangnya 2 meter dan lebar 1 meter. Panjang meja tersebut dalam sentimeter adalah

- 20 cm
- 2.000 cm
- 200 cm
- 0,2 cm

CATATAN:

NILAI:

