

LKPD

Matematika

Tema: Piktogram dan Diagram Batang

Nama: _____






Kelas: _____



Piktogram

Perhatikan piktogram, Jawablah pertanyaan di bawah ini.

Piktogram Alat Tulis

Alat Tulis	Jumlah
Pensil	
Buku	
Penggaris	
Gunting	
Penghapus	

Pertanyaan:

- Apa saja alat tulis dalam piktogram?

Jawab: _____

- Apa alat tulis yang paling banyak?

Jawab: _____

- Apa alat tulis yang paling sedikit?

Jawab: _____

- Berapakah jumlah seluruh alat tulis?

Jawab: _____

- Berapakah selisih pensil dan penghapus?

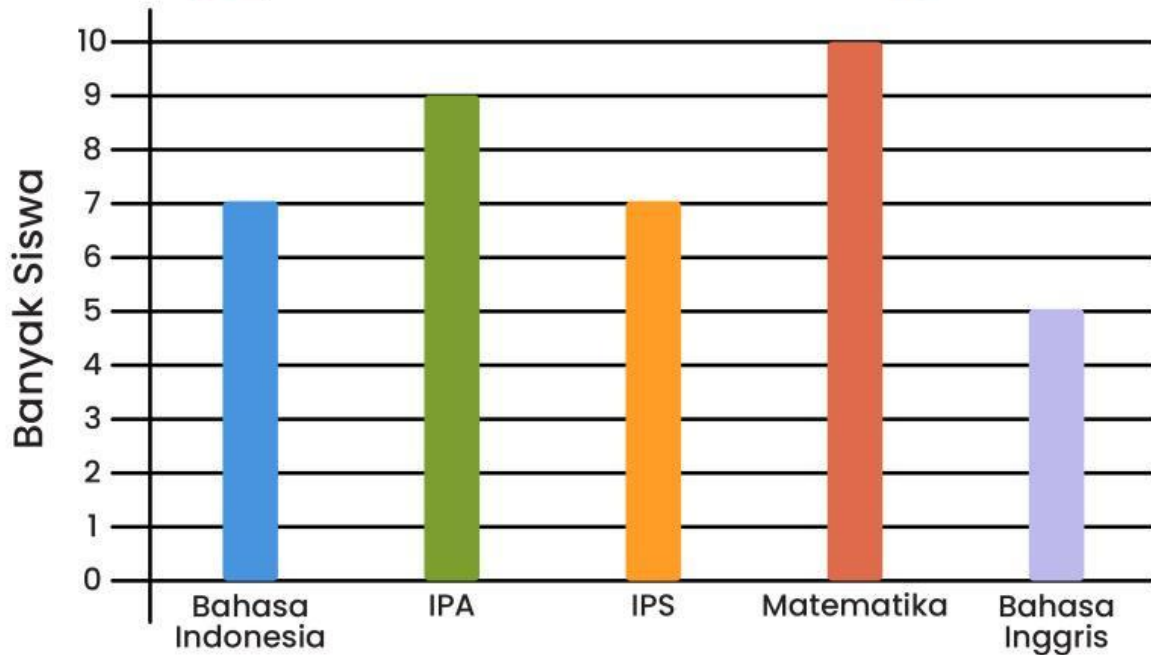
Jawab: _____

Diagram Batang

Perhatikan diagram batang, Jawablah pertanyaan di bawah ini.



Mata Pelajaran Kesukaan



Pertanyaan:

- Apa saja mata pelajaran dalam diagram batang?
Jawab: _____
- Apa mata pelajaran yang banyak disukai?
Jawab: _____
- Apa mata pelajaran yang sedikit disukai?
Jawab: _____
- Berapakah banyak seluruh siswa?
Jawab: _____
- Berapakah selisih matematika dan IPS?
Jawab: _____

Piktogram menjadi Diagram Batang

Perhatikan piktogram, Ubahlah menjadi diagram batang pada kotak di bawah ini.

Piktogram Makanan

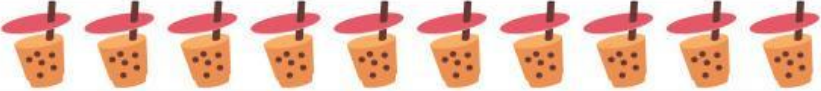




Alat Tulis	Jumlah
Teh	
Burger	
Kue	
Roti	
Es Krim	

Diagram Batang Makanan

