

الاسم :

الوحدة 13: الهندسة-الدرس 4: نشاط عملي-المثلثات

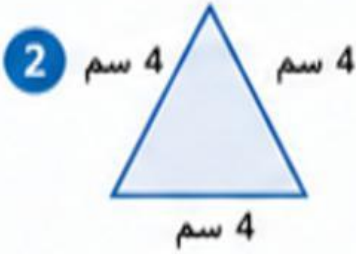
المستوى : فوق الاتقان

صنّف كل مثلث حسب أطوال أضلاعه واكتب نوعه مع السبب .



النوع :

السبب :



النوع :



السبب :



النوع :

السبب :

رتب البطاقات التالية من الأقل تساويًا في الأضلاع إلى الأكثر تساويًا :



()

()

()

اعداد المعلمة : حصه علي

