

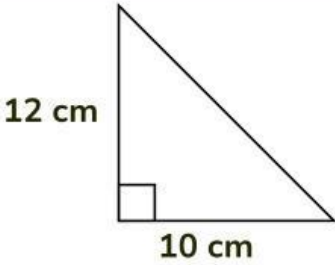
Nama:

Kelas:

No Absen:

# MENGHITUNG LUAS

Amati gambar bangun datar berikut, lalu hitunglah luasnya.



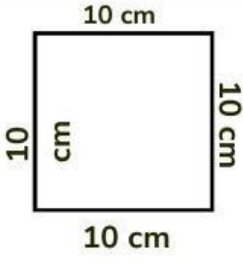
12 cm

10 cm

Hitung luas segitiga tersebut.

---

---



10 cm

10 cm

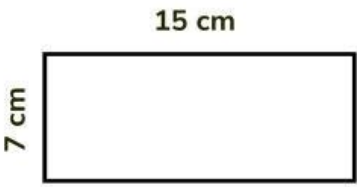
10 cm

10 cm

Hitung luas persegi tersebut.

---

---



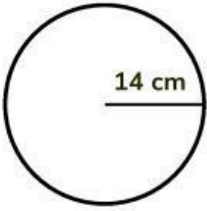
15 cm

7 cm

Hitung luas persegi panjang tersebut.

---

---



14 cm

Hitung luas lingkaran tersebut.

---

---

# PERSENTASE



Jenis Olah Raga	Jumlah Siswa
Basket	6
Volly	12
Futsal	10
Badminton	8
Renang	4
Jumlah	40

1 Persentase basket = ... %

2 Persentase Volly = ... %

3 Persentase Futsal = ... %

4 Persentase Badminton = ... %

# Rasio Satuan (Perbandingan)

Hitunglah dan tentukan rasio satuan dari gambar dan lengkapi tabel berikut dengan tepat!



Rp 20.000

Banyak buah	Harga buah
5	Rp 20.000
1	.....



Rp 36.000

Banyak buah	Harga buah
9	Rp 36.000
1	.....



Rp 28.000

Banyak buah	Harga buah
4	.....
1	.....



Rp 30.000

Banyak buah	Harga buah
.....	.....
1	.....



Rp 24.000

Banyak buah	Harga buah
.....	.....
1	.....



Rp 25.000

Banyak buah	Harga buah
5	.....
1	.....