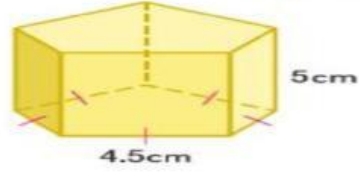


ورقة عمل طبقا للخطة التربوية الفردية
مدرسة أبو سعيد الخدري مادة الرياضيات الصف الحادي عشر عام

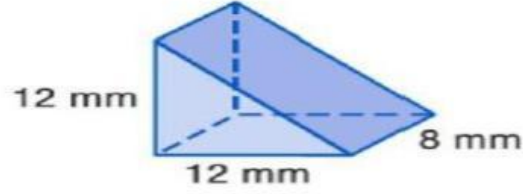
اسم الطالب :

جد عدد أوجه المجسمات التالية:



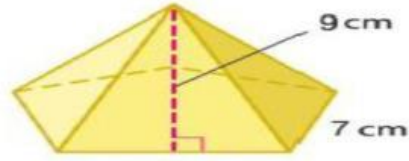
-1

عدد الأوجه =



-2

عدد الأوجه =



-3

عدد الأوجه =