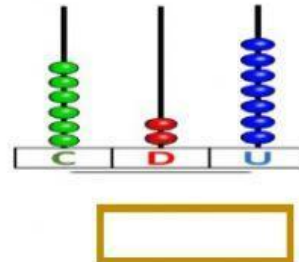
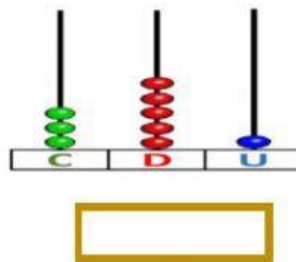
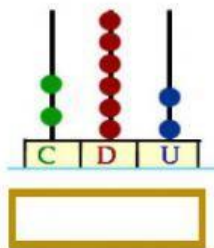




## Representación de números de tres cifras

1. Escribe la cifra que representa cada ábacos.



2. Escribe el número representado en la tabla con fichas

Centenas	Decenas	Unidades

Centenas +  Decenas +  Unidades

Centenas	Decenas	Unidades

Centenas +  Decenas +  Unidades

Unidades =

3. Ubica los números en la tabla de valor posicional.

Centenas	Decenas	Unidades

905

Centenas	Decenas	Unidades

587