


LKPD

LEMBAR KERJA PESERTA DIDIK

TEMA : MENGENAL BUMI DAN ANTARIKSA

Disusun oleh : Khairunnisa


NIM : 24129050



VIDIO PEMBELAJARAN



SUBSCRIBE



NAMA :

KELAS :

PILIHAN GANDA PLANET

NILAI :

Uji Pengetahuanmu tentang Planet!

Petunjuk : Pilih jawaban yang paling tepat!

1



Planet yang paling dekat dengan Matahari adalah ____

- Venus Bumi
 Merkurius

2



Planet terbesar di tata surya adalah ____

- Jupiter Neptunus
 Saturnus

3



Planet yang dijuluki "Planet Merah" adalah ____

- Mars Uranus
 Venus

4



Planet yang memiliki cincin indah adalah ____

- Saturnus Neptunus
 Jupiter

5



Bumi disebut sebagai planet ____

- Biru Kuning
 Merah


Nama :

Kelas :

Tanggal :

Planet Tata Surya

Perhatikan gambar berikut dan jawablah pertanyaan yang tersedia!



1 Apa nama bintang yang menjadi pusat tata surya?

2 Sebutkan dua planet yang paling dekat dengan matahari!

3 Apa nama planet yang memiliki cincin?

4 Planet apa yang tampak berwarna biru pada bagian terluar gambar?

5 Apa fungsi garis melingkar yang terlihat pada gambar tata surya?

Nama :

Kelas :

Planet-Planet

Urutkan planet berikut dengan memberi nomor, mulai dari planet terdekat dengan Matahari!

MARS

JUPITER

VENUS

URANUS

BUMI

MERKURIUS

NEPTUNUS

SATURNUS



PLANET-PLANET

DI TATA SURYA

Nama :

Kelas :

Hubungkan planet dan karakteristiknya dengan menarik garis!



Merkurius



Venus



Bumi



Mars



Jupiter



Saturnus



Uranus



Neptunus

Planet terbesar

Planet dengan cincin terkenal

Planet terdekat dengan Matahari

Planet merah

Planet dengan kehidupan

Planet terpanas

Planet dengan cincin tipis

Planet terjauh dari matahari