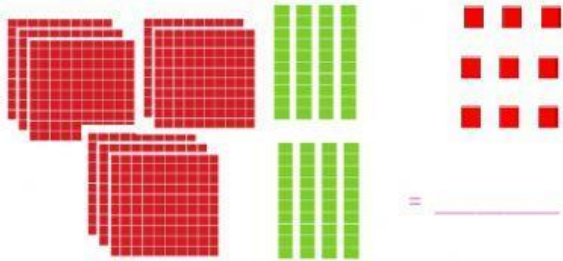




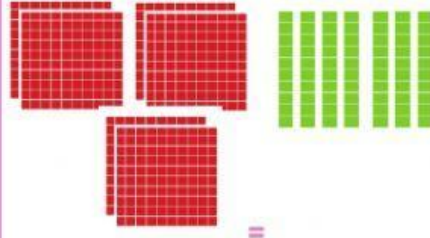
Representación de números de tres cifras

1. Qué número muestra cada conjunto.




= _____

_____ centenas _____ decenas _____ unidades




= _____

_____ centenas _____ decenas _____ unidades



= _____


_____ centenas _____ decenas _____ unidades



_____ centenas _____ decenas _____ unidades

= _____

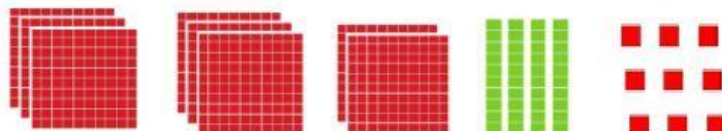
2. Escribe los números.



9 centenas + 7 decenas + 3 unidades =



6 centenas + 8 decenas + 6 unidades =



8 centenas + 4 decenas + 9 unidades =