

ILMU PENGETAHUAN ALAM

LKPD

BAGIAN TUBUH TUMBUHAN

UNTUK KELAS 4 SEKOLAH DASAR

Nama: _____

Kelas: _____



BAGIAN TUBUH TUMBUHAN

Identitas Pembelajaran

1. Nama Penyusun : Marsya Aprilianti
2. NIM : 24129057
3. Satuan Pendidikan : SD N 02 Kototinggi
4. Mata Pelajaran : IPAS
5. Kelas/Semester : IV / 1
6. Tema : Tumbuhan Sumber Kehidupan di Bumi
7. Materi : Bagian Tubuh Tumbuhan dan Fungsinya
8. Alokasi Waktu : 2 x 35 Menit

Capaian Pembelajaran

Peserta didik mampu mengidentifikasi bagian tubuh tumbuhan dengan tepat dan dapat mendeskripsikan fungsinya.

Tujuan Pembelajaran

- Peserta didik dapat mengidentifikasi bagian-bagian tubuh dari tumbuhan.
- Peserta didik dapat memahami fungsi dari masing-masing bagian tubuh tumbuhan.
- Peserta didik dapat mengaitkan fungsi bagian tubuh tumbuhan dengan kebutuhan tumbuhan untuk tumbuh, mempertahankan diri, serta berkembang biak.



Nama:

Nilai:

Kelas:

BAGIAN TUBUH TUMBUHAN

Materi Singkat

Tumbuhan memiliki beberapa bagian penting, yaitu akar, batang, daun, bunga, dan buah

- Akar berfungsi menyerap air dan menahan tumbuhan agar tegak.
- Batang menyalurkan air dan zat makanan ke seluruh bagian tumbuhan.
- Daun berguna untuk membuat makanan melalui proses fotosintesis.
- Bunga membantu tumbuhan berkembang biak.
- Buah melindungi dan menyimpan biji.



Petunjuk Penggunaan LKPD

- Bukalah link E-LKPD (Worksheet) yang diberikan oleh guru.
- Bacalah petunjuk dan setiap pertanyaan dengan cermat.
- Perhatikan penjelasan guru sebelum mulai mengerjakan.
- Isilah jawaban langsung pada kolom yang tersedia di Worksheet.
- Diskusikan jawaban bersama kelompok jika diminta.
- Periksa kembali jawaban sebelum dikirim.
- Klik tombol submit/kirim setelah semua soal selesai dikerjakan.
- Pastikan tugas telah terkirim dengan benar sesuai waktu yang ditentukan.



Nama:

Kelas:

MENGENAL BAGIAN- BAGIAN TUMBUHAN

Pasangkan gambar bagian-bagian
tumbuhan dengan nama yang tepat!



Daun

Akar

Batang


Buah

Bunga

MENGENAL BAGIAN-BAGIAN TUMBUHAN

Nama : Kelas :

Tuliskan nama dari setiap bagian tumbuhan yang ditunjukkan pada gambar di bawah ini dengan benar!




Nama:

Kelas:

BAGIAN-BAGIAN TUMBUHAN

Amatilah gambar tumbuhan berikut. Berilah nama setiap bagian yang ditunjuk dan jelaskan fungsi dari masing-masing bagian!



No.	Nama Bagian Tumbuhan	Fungsi
1.		
2.		
3.		
4.		
5.		



Bagian Tumbuhan




Nama:



Kelas:



Tuliskan nama bagian tumbuhan serta fungsinya sesuai angka pada gambar!



Nama bagian tumbuhan:

Fungsi: 1

.....

.....

.....

Nama bagian tumbuhan:

Fungsi: 2

.....

.....

.....

Nama bagian tumbuhan:

Fungsi: 3

.....

.....

.....

Nama bagian tumbuhan:

Fungsi: 5

.....

.....

.....

Nama bagian tumbuhan:

Fungsi: 4

.....

.....

.....

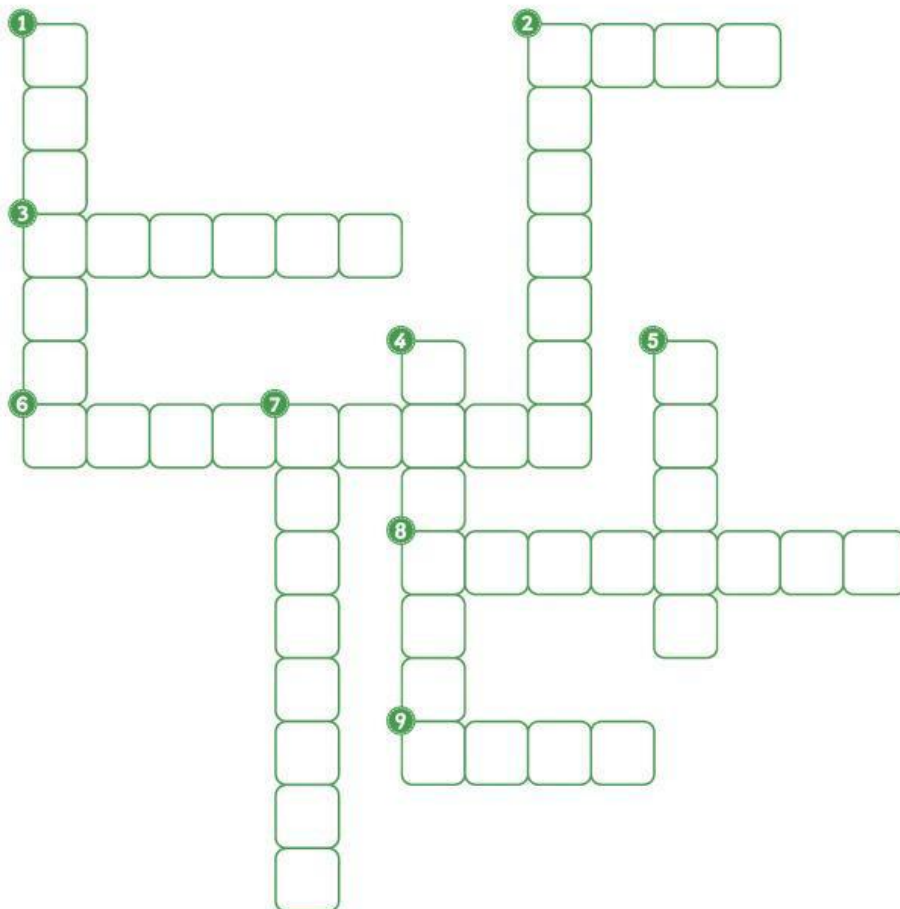
Nama:

Kelas:

MENGENAL BAGIAN- BAGIAN TUMBUHAN



Tebalkan nama bagian-bagian tumbuhan di bawah ini dengan rapi!



MENDATAR

2. Bagian tumbuhan yang berfungsi sebagai tempat memasak makanan
3. Bagian tumbuhan yang berfungsi sebagai pengangkut
6. Tumbuhan biji berkeping satu
8. Daun mangga memiliki susunan tulang daun
9. Bagian tumbuhan yang berfungsi menyerap air dan zat hara

MENURUN

1. Bagian di dalam batang yang hanya dimiliki tumbuhan batang berkayu
2. Tumbuhan biji berkeping dua
4. Mulut daun disebut juga sebagai
5. Alat kelamin betina pada bunga
7. Zat yang memberi warna hijau pada tumbuhan