

LEMBAR KERJA PESERTA DIDIK

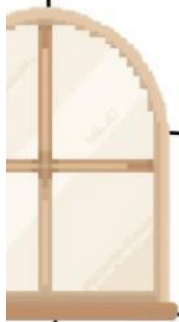
LKPD

MATEMATIKA

TEMA : BANGUN DATAR

Kelompok : _____

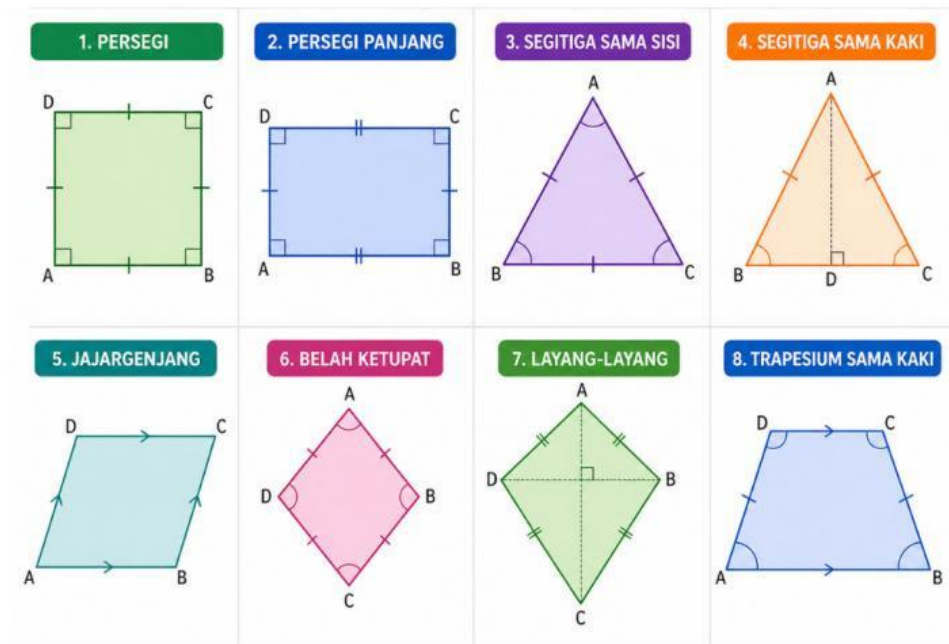
Nama Anggota : _____



Aktivitas 1. Sifat-sifat Layang-layang

Perhatikan gambar berbagai bangunan yang ada dibawah ini!

- Masing-masing kelompok fokus pada satu gambar bangunan. Urutan gambar disesuaikan dengan nomor kelompok.

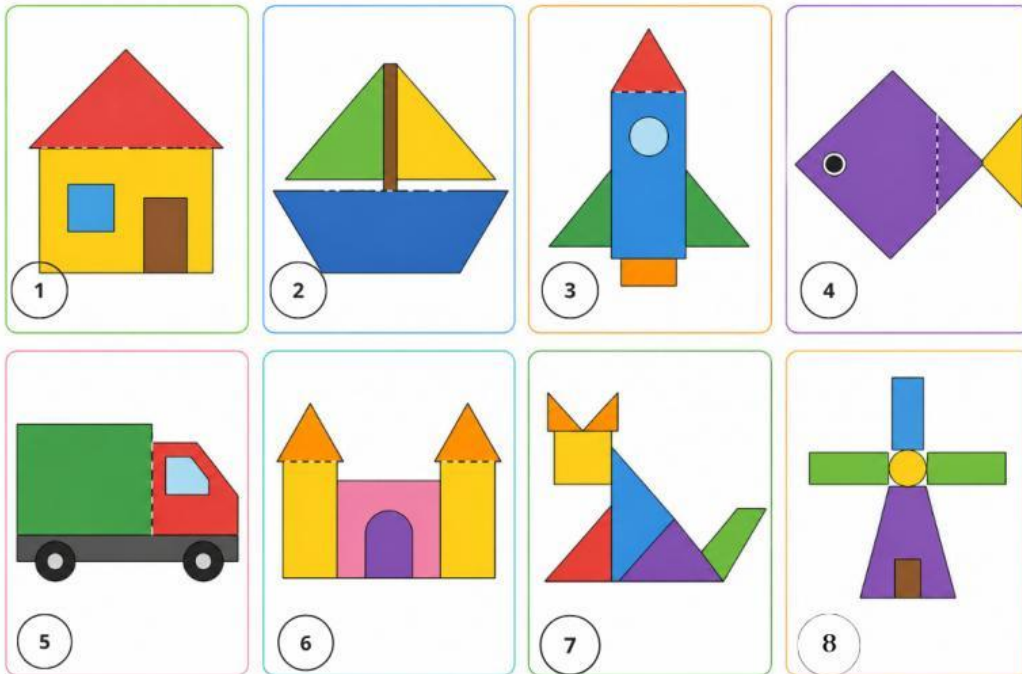


Sudut	Titik sudut	Sisi	Panjang sisi	Diagonal	Panjang OB dan OD sama	Pasangan sisi sama	Kesimpulan

Aktivitas 2. Dekomposisi Bangun Datar

Perhatikan gambar berbagai bangunan yang ada dibawah ini!

1. Masing-masing kelompok fokus pada satu gambar bangunan. Urutan gambar disesuaikan dengan nomor kelompok.



2. Carilah jenis bangun datar yang ada pada gambar diatas
3. Diskusi bersama anggota kelompok, ada berapa jenis bangun datar yang kalian peroleh? Sebutkan. (Misalnya : Segitiga ada 2)

4. Berdasarkan aktivitas yang sudah dilakukan, dapatkah kalian menyimpulkan apakah dekomposisi bangun datar itu?