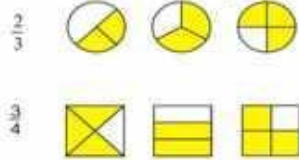




Задание 1. Найди верную дробь на рисунке:

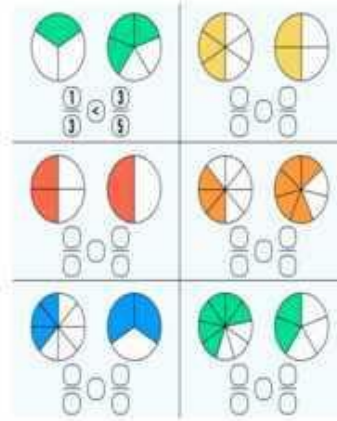


Задание 2. Реши по образцу.

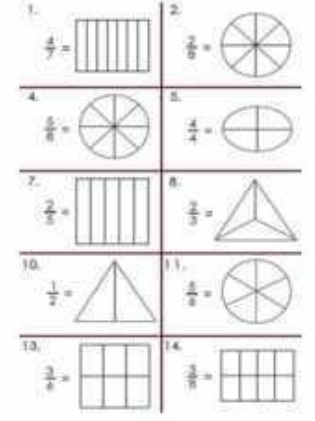
Задание 3. Какая часть закрашена?

$\frac{2}{4} + \frac{1}{4} = \frac{3}{4}$

Задание №4 Сравни дроби



Задание №5 Закрась часть, соответствующую дроби.



Задание №6 Запиши в виде обыкновенной дроби

Одна восьмая _____ Половина _____
 Шесть двенадцатых _____ Пять восьмых _____
 Десять двадцатых _____ Две десятых _____
 Одна сотая _____ Шесть седьмых _____