

## ورقة عمل (6)

الصف: ثاني متوسط

اسم الطالبة: .....

### السؤال الأول: اختاري الإجابة الصحيحة لكل مما يلي:

1- عرض مرني للمعلومات والبيانات يسهل فهم الأرقام وتحليلها :

التحقق من الصحة

الدوال المنطقية

المخطط أو الرسم البياني

2- من أنواع المخططات يستخدم لعرض الاتجاهات ويظهر التغييرات في البيانات على مدى فترة زمنية :

الدائري

المبعثر

الخطي

### السؤال الثاني : ضعي علامة (✓) أو (X)

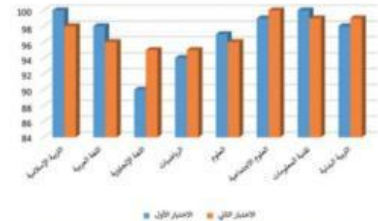
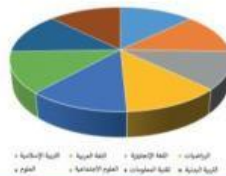

- 1 / يوفر برنامج مايكروسوفت إكسل أنواعاً مختلفة من المخططات البيانية التي تناسب أهدافك ( )
- 2 / يتيح لك التنسيق الشرطي في مايكروسوفت إكسل تمييز الخلايا بلون معين بناءً على قيمة الخلية ( )
- 3 / في مايكروسوفت إكسل يمكن بدء المستند بمخطط بياني من المخططات الموصى بها فقط ( )

### السؤال الثالث : صلي كل شكل من أشكال المخططات البيانية بالاسم المناسب له:

المخطط العمودي | الشريطي

المخطط الخطي

المخطط الدائري



معلمة المادة / مريم النعيم