





Escuela Normal Superior de Piedecuesta.
Evaluación acumulativa de matemática.

Nombre: _____ curso: 1- _____ marzo 25/2021


1. Cuenta y une con una línea la cantidad con el número.

	<input type="text" value="4"/>	
	<input type="text" value="1"/>	
	<input type="text" value="3"/>	
	<input type="text" value="2"/>	

2. Completa el sudoku colocando cada imagen en el lugar correcto.

3. Selecciona las imágenes iguales.



4. En los siguientes conjuntos: ¿cuales son los elementos que no pertenecen?



--



--

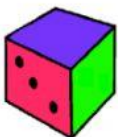
5. Pincha tantos cuadros como se te indica en el dado.



--	--	--	--	--	--	--	--	--	--





--	--	--	--	--	--	--	--	--	--












--	--	--	--	--	--	--	--	--	--

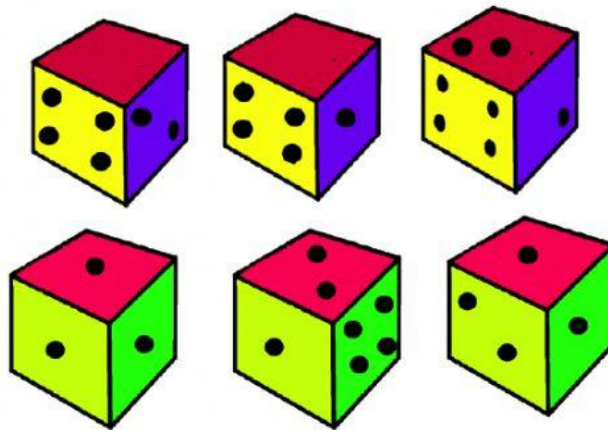
6. Ubica los elementos del conjunto de la derecha en los conjuntos de la izquierda según la característica común que encuentres en ellos.



7. Une las fichas de domino que me dan la opción que tengo en el dado.

4			
3			
5			

8. Señala la opción que se te indica en el audio.



9. Observa las secuencias y ubica las figuras que faltan.



10. Arma el rompecabezas.

