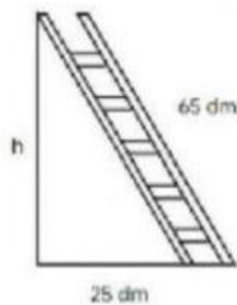


TALLER 1

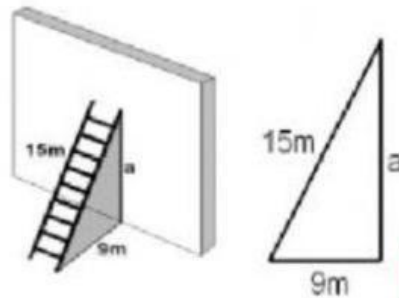
TEOREMA DE PITÁGORAS

1. Una escalera de 65 decímetros se apoya en una pared vertical de modo que el pie de la escalera está a 25 decímetros de la pared. ¿Qué altura, en decímetros alcanza la escalera?



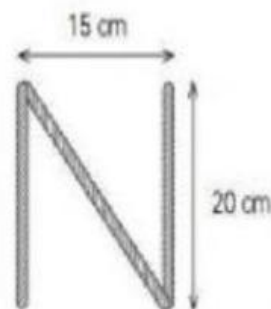
$h =$

2. Una escalera de 15 metros se apoya en una pared vertical, de modo que el pie de la escalera se encuentra a 9 metros de esa pared. Calcula la altura, en metros, que alcanza la escalera sobre la pared.



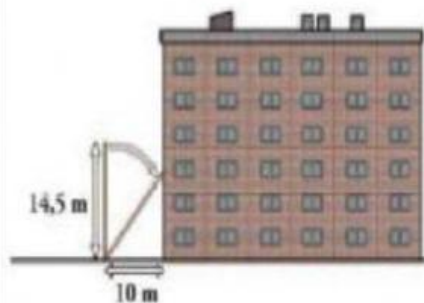
$a =$

3. Una letra "N" se ha construido con tres listones de madera; los listones verticales son 20 cm y están separado 15 cm. ¿Cuánto mide el listón diagonal?




cm

4. Una escalera de bomberos de 14,5 metros de longitud se apoya en la fachada de un edificio, poniendo el pie de la escalera a 10 metros del edificio. ¿Qué altura, en metros, alcanza la escalera?




m

5. Una rampa de una carretera avanza 60 metros en horizontal para subir 11 metros en vertical. Calcula cuál es la longitud de la carretera.



m

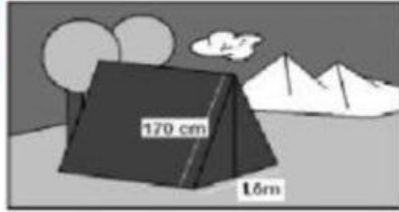
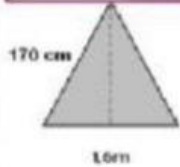
6. El dormitorio de Pablo es rectangular, y sus lados miden 3 y 4 metros. Ha decidido dividirlo en dos partes triangulares con una cortina que une dos vértices opuestos. ¿Cuántos metros deberá medir la cortina?



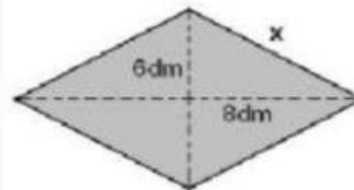
m

7. La cara frontal de una tienda de campaña es un triángulo isósceles cuya base mide 1,6 metros y cada uno de los lados iguales mide 170 centímetros. Calcula la altura en centímetros de esa tienda de campaña.

cm

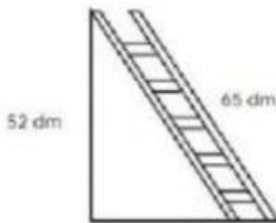


8. Calcula la medida, en decímetros, de cada lado de un rombo, sabiendo que sus diagonales miden 12 y 16 decímetros.



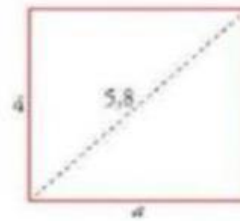
dm

9. Una escalera de 65 decímetros está apoyada en una pared vertical a 52 decímetros del suelo. ¿A qué distancia se encuentra de la pared el pie de la escalera?



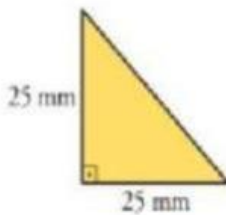
dm

10. En un rectángulo de altura 4 cm la diagonal es de 5,8 cm. ¿Cuánto mide la base del rectángulo?



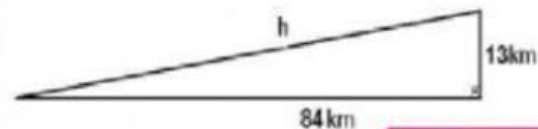
cm

11. En un triángulo isósceles y rectángulo, los catetos miden 25 milímetros cada uno, ¿Cuál es la medida de su hipotenusa?



mm

12. Una rampa tiene una longitud horizontal de 84 kilómetros y un altura de 13 km. ¿Cuál es la longitud de la rampa?



km