



# LKPD

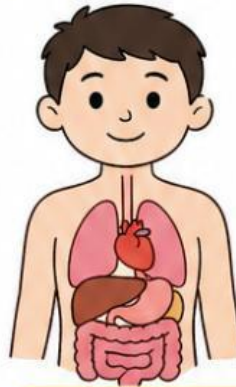
## SISTEM ORGAN

### TUBUH MANUSIA

Nama : \_\_\_\_\_

Kelas : \_\_\_\_\_

Tanggal : \_\_\_\_\_



#### Sistem Organ

Tubuh manusia memiliki banyak organ yang bekerja sama untuk menjaga kehidupan kita.

#### 1. Pilihan Ganda

Pilihlah jawaban yang paling tepat!

- Organ yang berfungsi memompa darah adalah ...
  - Paru-paru
  - Jantung
  - Lambung
  - Otak
- Sistem pencernaan berfungsi untuk ...
  - Mengedarkan darah
  - Mengolah makanan
  - Bernapas
  - Bergerak
- Paru-paru termasuk dalam sistem ...
  - Pencernaan
  - Pernapasan
  - Peredaran darah
  - Gerak
- Organ yang digunakan untuk berpikir adalah ...
  - Jantung
  - Otot
  - Otak
  - Hati
- Tulang dan otot termasuk dalam sistem ...
  - Pernapasan
  - Gerak
  - Pencernaan
  - Peredaran darah



#### 2. Isian Singkat




Isilah titik-titik berikut dengan jawaban yang tepat!

- Organ pernapasan utama adalah \_\_\_\_\_
- Tempat terjadinya pencernaan makanan adalah \_\_\_\_\_
- Jantung berfungsi untuk \_\_\_\_\_
- Otot membantu tubuh untuk \_\_\_\_\_
- Pembuluh darah berfungsi untuk \_\_\_\_\_



#### 3. Menjodohkan

Pasangkan organ dengan fungsinya!

-  • • a. Mengolah makanan
-  • • b. Bernapas
-  • • c. Memompa darah

#### 4. Uraian

Jawablah pertanyaan berikut!

- Sebutkan 3 sistem organ dalam tubuh manusia!

\_\_\_\_\_

\_\_\_\_\_

- Jelaskan fungsi sistem pernapasan!

\_\_\_\_\_

\_\_\_\_\_

- Mengapa organ dalam tubuh harus bekerja sama?

\_\_\_\_\_

\_\_\_\_\_



#### Refleksi

Apa yang kamu pelajari hari ini?

\_\_\_\_\_

\_\_\_\_\_