



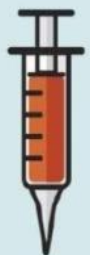
**LEMBAR KERJA PESERTA DIDIK (LKPD)  
PERCOBAAN GELOMBANG BERJALAN  
SMAN 1 KOTA TANGERANG SELATAN**

Nama Anggota Kelompok : 1. ....  
2. ....  
3. ....  
4. ....

**Tujuan Pembelajaran:**

Setelah melakukan percobaan gelombang berjalan, peserta didik dapat :

1. Mengidentifikasi besaran fisis pada gelombang berjalan
2. Mengetahui hubungan besaran fisis pada gelombang berjalan (frekuensi, amplitudo, panjang gelombang dan cepat rambat)
3. Merumuskan persamaan simpangan gelombang berjalan





### A. Petunjuk Belajar :

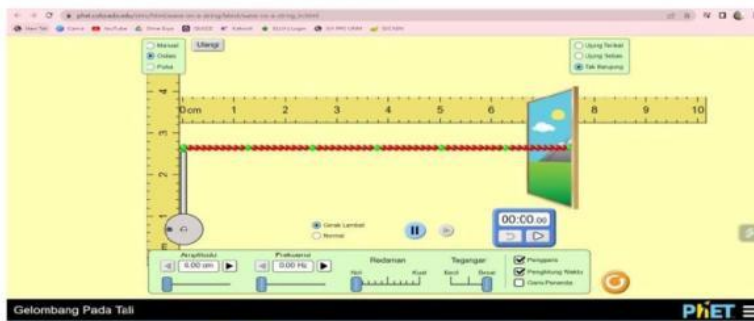
1. Bentuklah kelompok yang terdiri dari 3-4 orang!
2. Baca secara cermat petunjuk dan langkah-langkah percobaan sebelum anda melakukan kegiatan.
3. Baca buku-buku fisika kelas XI dan sumber lain yang relevan dengan materi gelombang berjalan
4. Tanyakan pada guru jika ada hal-hal yang kurang jelas.

### B. Alat dan Bahan :

1. Virtual Lab [https://phet.colorado.edu/sims/html/wave-on-a-string/latest/wave-on-a-string\\_in.html](https://phet.colorado.edu/sims/html/wave-on-a-string/latest/wave-on-a-string_in.html)
2. Laptop/Komputer/HP

### C. Langkah-Langkah Kegiatan :


1. Buka simulasi phet dengan link [https://phet.colorado.edu/sims/html/wave-on-a-string/latest/wave-on-a-string\\_in.html](https://phet.colorado.edu/sims/html/wave-on-a-string/latest/wave-on-a-string_in.html) melalui Hp atau Laptop



2. Tekan tombol pause
4. Atur besaran pada simulasi sebagai berikut



3. Aturlah amplitude redaman (damping) pada "none/nol"!
4. Aturlah amplitude dan frekuensi sesuai dengan tabel pengamatan!
5. Atur gerak gelombang "normal", lalu klik tombol "play" untuk memulai!
6. Kemudian amati gelombang yang terbentuk kemudian "pause" atur sampai titik hitam sejajar dengan putih atur dengan mengklik tanda
7. Kemudian ukur panjang gelombang dengan "ruler" dan catat hasilnya ditabel pengamatan
8. Ulangi langkah 3 sampai 7 sesuai tabel pengamatan!





#### D. Data Hasil Percobaan (Data Collection)

##### Percobaan 1

Variabel Manipulasi/Bebas : Amplitudo

Variabel Kontrol : Frekuensi (1,5 Hz), tegangan tali (besar) dan redaman (nol)

Variabel Respon/Terikat : panjang gelombang dan cepat rambat

**Tabel 1**  
**Data Percobaan 1**

No	Frekuensi (Hz)	Amplitudo (cm)	Panjang Gelombang (cm)	Cepat rambat gelombang (cm/s)
1	1,5	0,5		
2	1,5	0,8		
3	1,5	1,0		

##### Percobaan 2


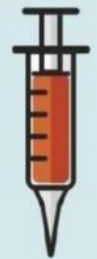
Variabel Manipulasi/Bebas : Frekuensi



Variabel Kontrol : Amplitudo (0,5 cm), tegangan tali (besar) dan redaman (nol)

Variabel Respon/Terikat : Panjang gelombang

**Tabel 2**  
**Data Percobaan 2**

No	Amplitudo (cm)	Frekuensi (Hz)	Panjang Gelombang (cm)	Cepat rambat gelombang (cm/s)
1	0,5	1,00		
2	0,5	1,50		
3	0,5	2,00		





**E. Analisis Data (Data Processing)**

Jawablah pertanyaan berikut berdasarkan data yang kamu peroleh!

1. Dari simulasi yang kamu lakukan kemanakah arah perambatan gelombang tersebut?

Jawab:

2. Jika kamu mengubah nilai amplitudo pada tabel 1, bagaimana pengaruhnya terhadap panjang gelombang?

Jawab:

3. Jika kamu mengubah nilai frekuensi pada tabel 2, bagaimana pengaruhnya terhadap panjang gelombang?

Jawab:




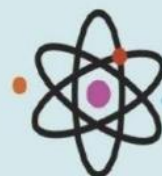
4. Besaran apakah yang dapat kamu ubah dari simulasi agar nilai cepat rambat gelombang ikut berubah?

Jawab:

5. Dari data percobaan no 1 pada tabel pengamatan 1 buatlah persamaan simpangan gelombang  $y = A \sin(\omega t \pm kx)$ !

Jawab:





**F. Kesimpulan**

Buatlah kesimpulan dari percobaan yang kamu lakukan hubungkan dengan rumusan masalah yang kamu identifikasi di awal pelajaran!

