

E-LKPD

MATEMATIKA

BANGUN DATAR



Disusun Oleh: **Muhamad Saefuloh**

E-LKPD

MATEMATIKA: BANGUN DATAR

I. PERHATIKAN VIDEO BERIKUT INI:



II. MATERI BANGUN DATAR:



III. MATERI BANGUN DATAR:



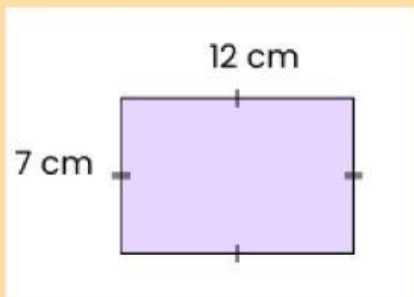
E-LKPD

MATEMATIKA: BANGUN DATAR

1. Isilah pertanyaan berikut ini dengan benar!

- 1 Apa nama bangun datar yang memiliki dua pasang sisi sejajar ?
- 2 Apa nama bangun datar yang memiliki satu sisi melengkung ?
- 3 Apa nama bangun datar yang memiliki empat sudut siku-siku ?
- 4 Sebutkan jenis-jenis bangun datar berdasarkan sudutnya ?
- 5 Sebutkan contoh bangun datar yang dapat dibentuk dari dua segitiga ?

2. Luas dan Keliling bangun datar pada gambar dibawah ini adalah



3. Yang bukan merupakan ciri-ciri bangun datar persegi adalah

4. Manakah pernyataan yang benar berdasarkan hasil berikut ini ?



E-LKPD

MATEMATIKA: BANGUN DATAR

5. Sebuah persegi memiliki panjang sisi 28 cm. Luas dan keliling dari persegi tersebut adalah ..

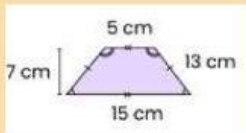
$L = 784 \text{ cm}^2$ dan $K = 112 \text{ cm}$

$L = 794 \text{ cm}^2$ dan $K = 122 \text{ cm}$

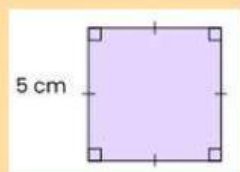
$L = 804 \text{ cm}^2$ dan $K = 122 \text{ cm}$

$L = 814 \text{ cm}^2$ dan $K = 132 \text{ cm}$

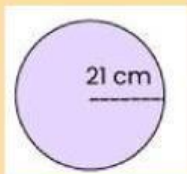
6. Geser angka dibawah ini pada kotak soal yang tepat dengan menghitung luas bangun datar pada gambar !



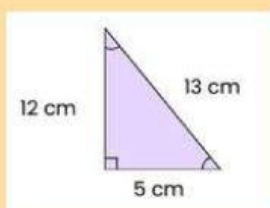
1.386



30



70



25