

Όνομα:

ΣΤ'

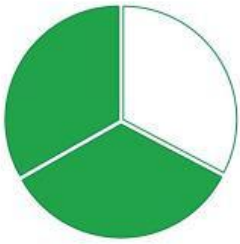
Κλάσματα

Μαθηματικά Εργασία

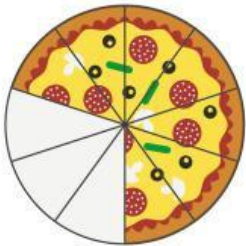


.....

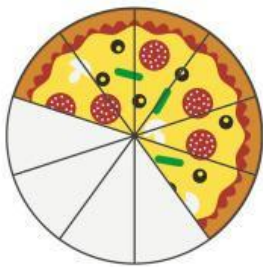
Γράψε τα κλάσματα:




=



=



=



=

Όνομα:

ΣΤ'

Κλάσματα

Μαθηματικά Εργασία



.....

Δες αν τα κλάσματα είναι ισοδύναμα:

$$\frac{12}{30}$$

$$\frac{2}{\quad}$$

$$\frac{\quad}{15}$$

$$\frac{6}{30}$$

$$\frac{50}{25}$$

$$\frac{8}{\quad}$$

$$\frac{6}{\quad}$$

$$\frac{2}{8}$$

$$\frac{4}{3}$$

$$\frac{28}{\quad}$$

$$\frac{10}{4}$$

$$\frac{15}{\quad}$$