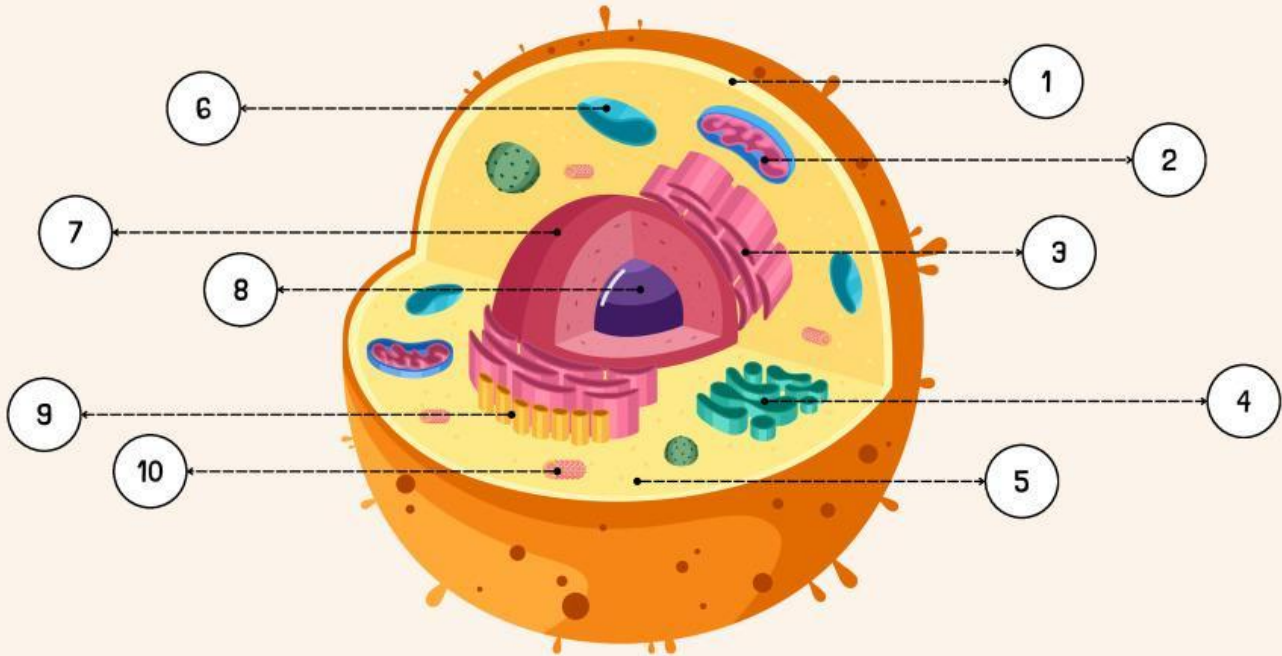


Nama:

Kelas:

BAGIAN-BAGIAN SEL HEWAN

Perhatikan Gambar. Berilah nama pada setiap bagian pada tabel sesuai dengan nama dan fungsinya!



| NO | NAMA | FUNGSI |
|-----|------|--------|
| 1. | | |
| 2. | | |
| 3. | | |
| 4. | | |
| 5. | | |
| 6. | | |
| 7. | | |
| 8. | | |
| 9. | | |
| 10. | | |

BAGIAN-BAGIAN SEL TUMBUHAN

Nama:

Kelas:

Tulis jawaban kamu pada tabel yang telah di sediakan!

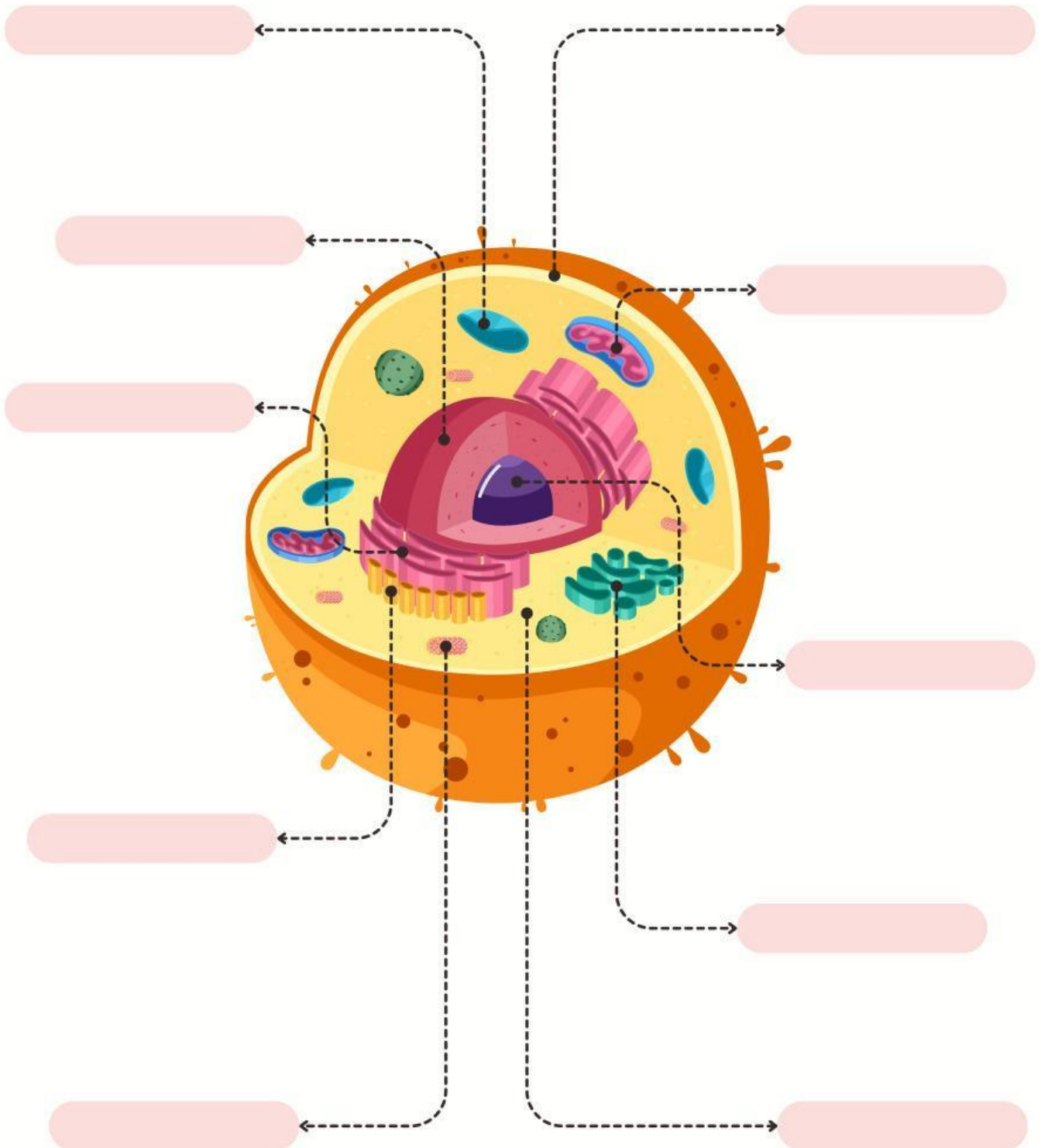
| GAMBAR | NAMA | FUNGSI |
|---|------|--------|
|  | | |
|  | | |
|  | | |
|  | | |
|  | | |
|  | | |
|  | | |
|  | | |
|  | | |
|  | | |

Nama:

Kelas:

BAGIAN-BAGIAN SEL HEWAN

Amatilah gambar Bagian-bagian Sel Hewan di bawah ini. Tulislah nama yang sesuai bagian yang telah di tunjuk!

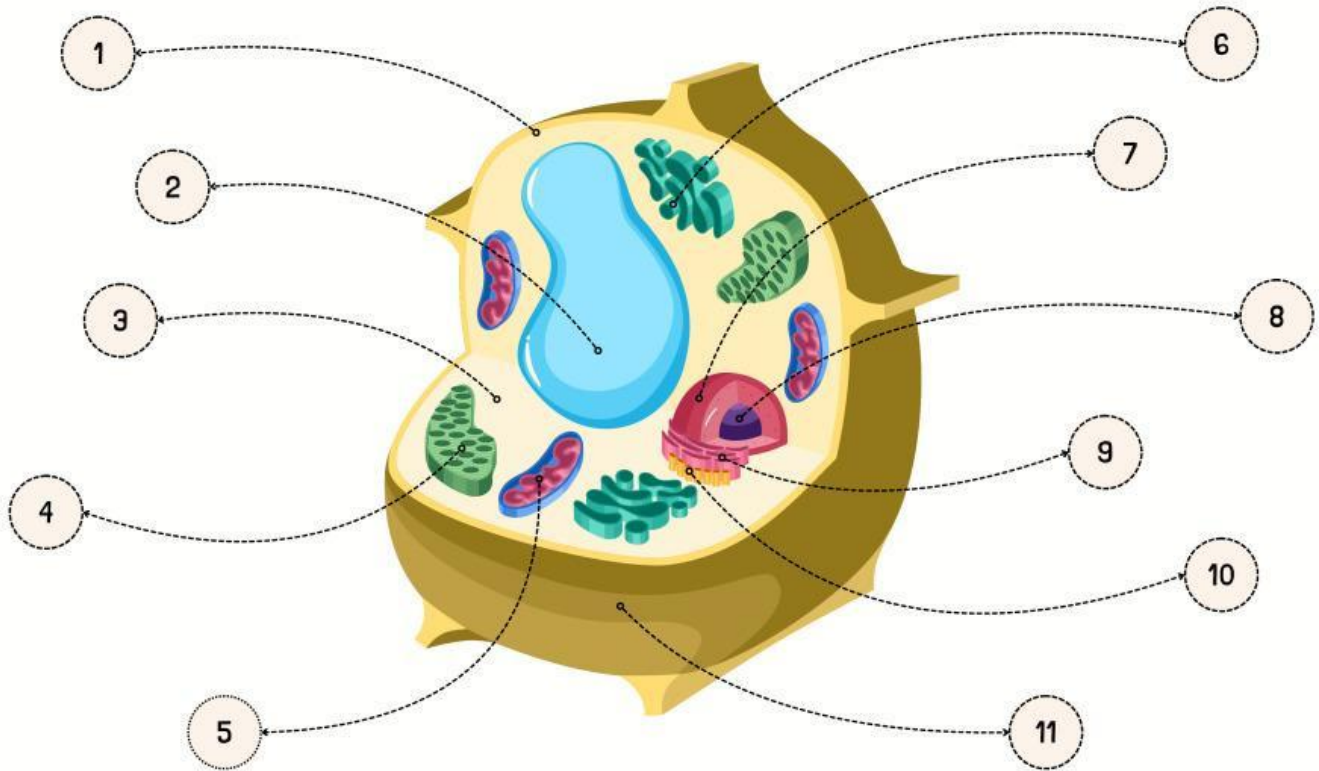


Nama:

Kelas:

BAGIAN-BAGIAN SEL TUMBUHAN

Amatilah gambar di bawah ini. Lengkapilah gambar dengan memberi nama yang sesuai.



1.

2.

3.

4.

5.

6.

7.

8.

9.

10.

11.