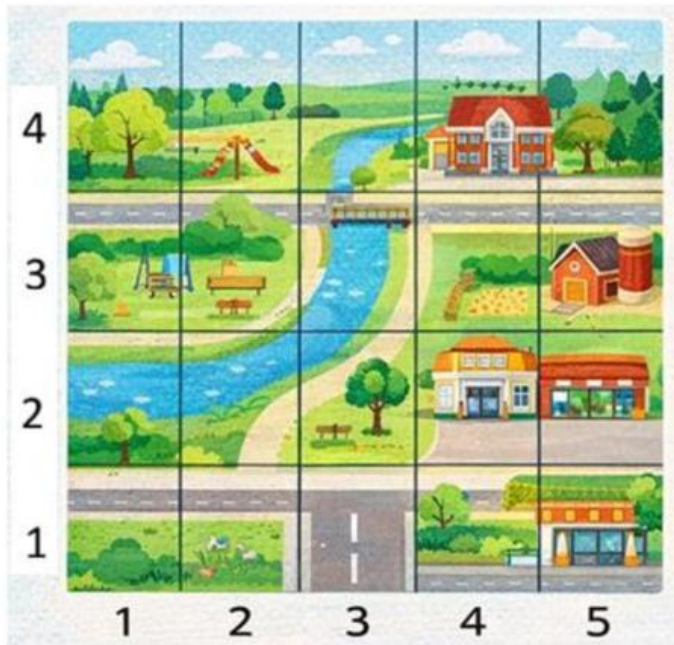


Ubicación en el plano- 2° – Matemáticas

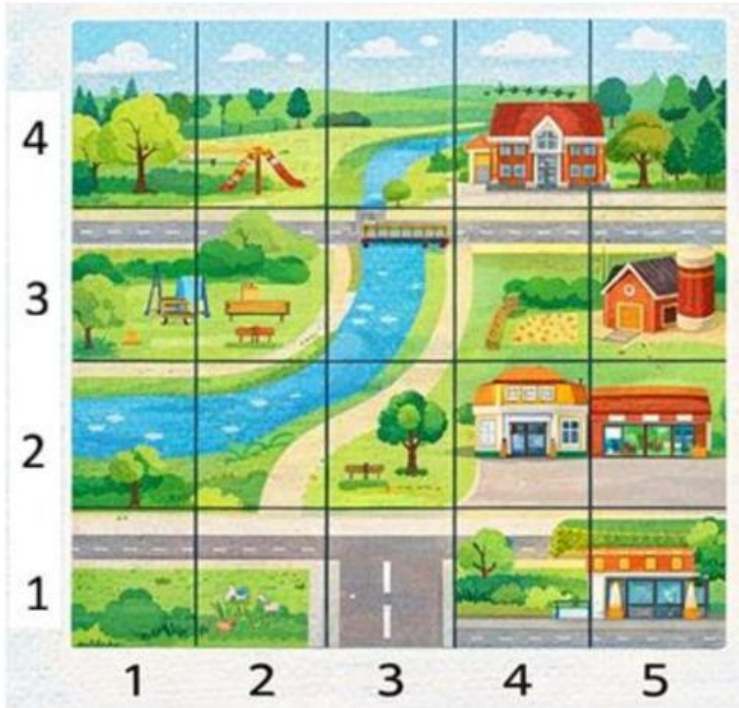
Nombre: _____ Grupo: _____ Fecha: _____


 [4] Observa el mapa y **escribe** las coordenadas de los lugares.


Lugar	Coordenadas
	(3,2)
	
	
	





[5] En la tabla se muestra el punto de inicio, recorrido y punto final.


Completa los espacios que faltan en la tabla.



Inicio	(2,1)	(5,2)	(1,4)		(3,1)
Recorrido	3↑ 2→		3↓ 3→	2↓ 3→	
Final	(4,4)	(1,4)		(2,2)	(5,3)
					

Ubica los siguientes elementos en la cuadrícula:

- Ubica el  en (D, 4)
- Dibuja una  en (H, 7)
- Ubica la  en (C, 10)
- Escribe una **X** en (F, 5)
- Dibuja una  en (A, 3)

10										
9										
8										
7										
6										
5										
4										
3										
2										
1										
	A	B	C	D	E	F	G	H	I	J