



LEMBAR KERJA PESERTA DIDIK

# LKPD



Mengenal Planet Tata Surya



Nama : \_\_\_\_\_


Kelas : \_\_\_\_\_

DISUSUN OLEH: UMMU AL-AZIZAH (24060192)


# PLANET DI TATA SURYA

Beri tanda silang pada gambar yang sesuai dengan namanya!


Uranus




Jupiter




Mars




Venus



Saturnus

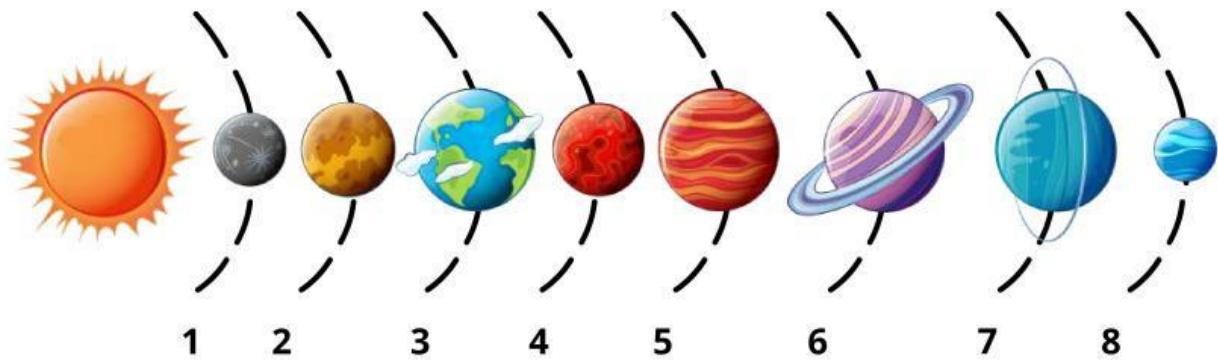


Bumi



# SISTEM TATA SURYA

Perhatikan susunan planet pada sistem tata surya berikut!



Sebutkan nama planet yang sesuai berdasarkan gambar tersebut!

	Matahari
1	
2	
3	
4	
5	
6	
7	
8	

# MENGELOMPOKKAN BENDA

Buatlah garis untuk menghubungkan nama-nama benda tersebut sesuai dengan kelompoknya.

Bulan

Meteor

Uranus

Titan

Komet


Mars

Asteroid

Planet

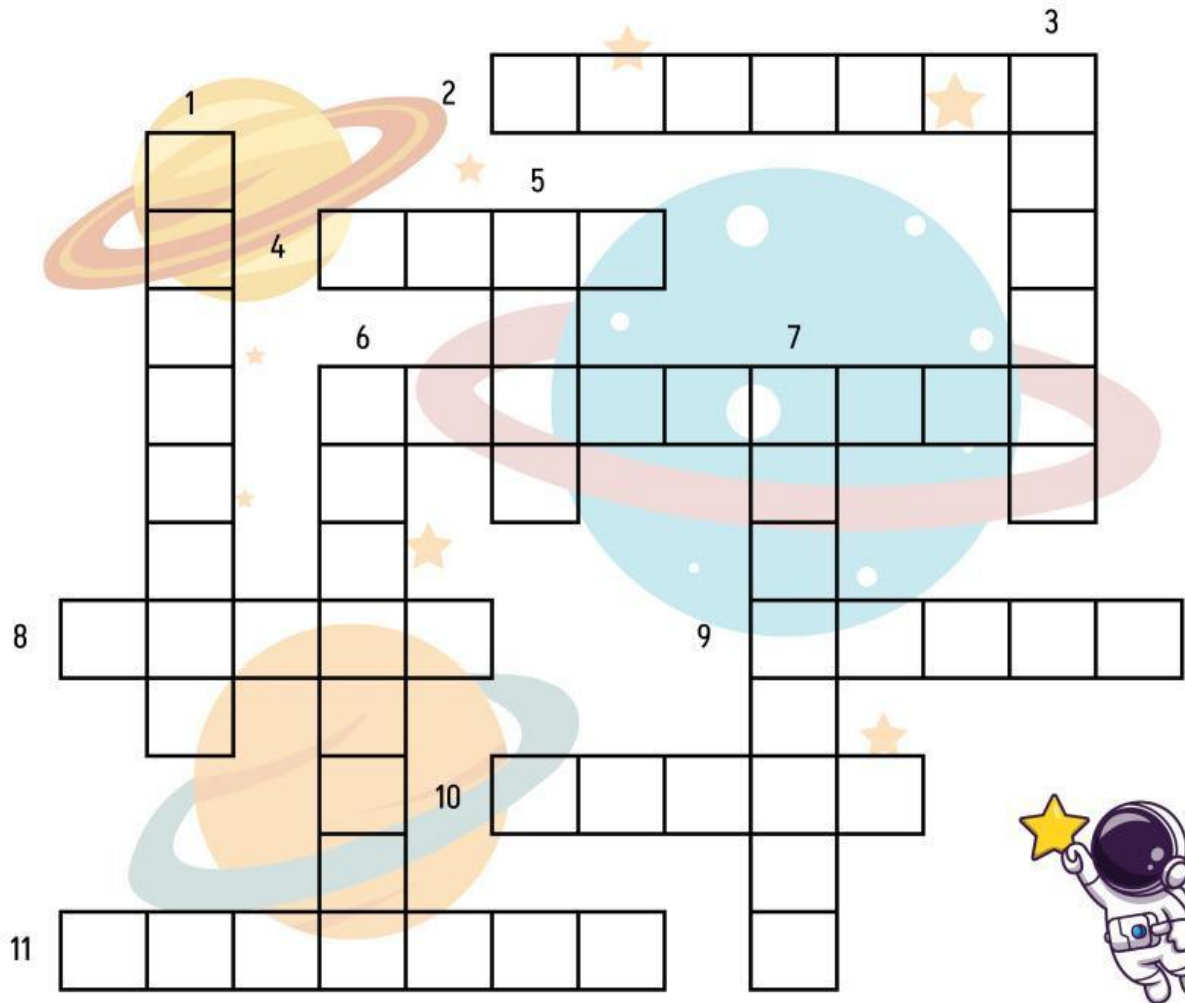
Benda luar angkasa

Satelit



# SISTEM TATA SURYA

Lengkapilah teka teki silang di bawah ini dengan benar!



## Mendatar

- 2 Planet terbesar dalam tata surya
- 4 Planet ketiga dalam tata surya
- 6 Planet terdekat dengan matahari
- 8 Satelit bumi
- 9 Lintasan benda langit mengelilingi benda langit lain secara teratur
- 10 Planet dengan sebutan bintang kejora
- 11 Tahun yang lamanya 366 hari

## Menurun

- 1 Planet yang memiliki satelit Triton
- 3 Bumi berputar pada porosnya
- 5 Planet merah
- 6 Pusatnya tata surya
- 7 Gerakan planet mengelilingi matahari