



انعكاس الضوء

السؤال الأول: حوّل الاجابة الصحيحة

١- هو ارتداد الضوء عن السطوح

أ- انعكاس الضوء ب- انكسار الضوء ج- تحلل الضوء

٣- اداة تعكس الاشعة الضوئية

أ- العدسات ب- المرايا ج- النظارات

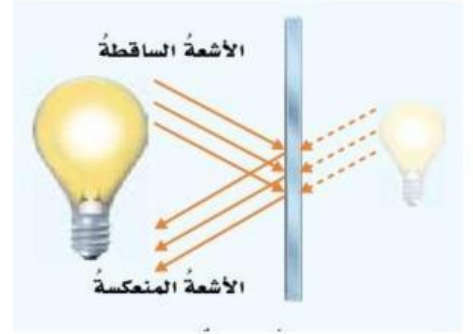
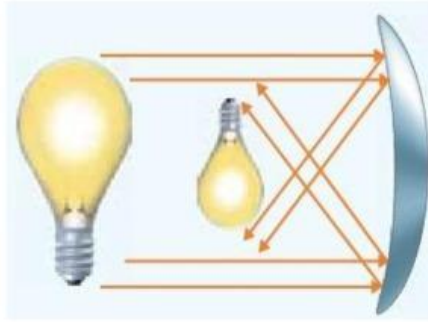
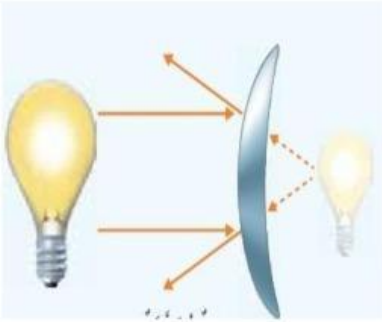


السؤال الثاني : (أ) حدّد اسم كل سطح من السطوح الآتية :

محدبة

مستوية

مقعرة



.....مرآة

.....مرآة

.....مرآة

(مفرقة للضوء)

(مجمعة للضوء)

(ب) اكمل المخطط التالي

مقعرة

محدبة

المرايا الكروية

مرايا سطحها العاكس للخارج

مرايا سطحها العاكس للداخل

أ/ عمرو احمد