

| | | | |
|-----------|--|--|--|
| المادة: | العلوم | <p>بسم الله الرحمن الرحيم</p>  <p>وزارة التعليم Ministry of Education</p> | <p>المملكة العربية السعودية وزارة التعليم جدة مدرسة: الابتدائية الستون</p> |
| الاختبار: | تقييم الفترة الثانية لمادة العلوم الصف الاول الابتدائي | | |
| الصف: | الاول | | |
| الزمن: | ٤٥ دقيقة | | |
| الفترة: | الثاني ١٤٤٧ | | |

| | |
|------------|--|
| اسم الطالب | |
| ٢٠ | |

| | |
|---------------------------------|----|
| السؤال ١: اختر الإجابة الصحيحة: | ١٠ |
|---------------------------------|----|

| | | | | | |
|---|---|--|--|-------------------------|--|
| ١ | أي القوى الآتية سبب سقوط التفاحة من الشجرة؟ | (أ) السحب | (ب) الدفع | (ج) الجاذبية الأرضية | (د) الاحتكاك |
| ٢ | ما هي المادة التي تحافظ على شكلها ولا يتغير عند نقلها من مكان لآخر؟ | (أ) المادة الصلبة | (ب) المادة السائلة | (ج) الغاز | (د) الهواء |
| ٣ | ما هي المادة التي تنتشر بسهولة لتملأ المكان الذي توجد فيه؟ | (أ) المادة الصلبة | (ب) المادة الغازية | (ج) المادة السائلة | (د) الخشب |
| ٤ | ماذا يحدث للورقة عندما أقوم بتمزيقها؟ | (أ) تتحول إلى مادة جديدة | (ب) يتغير شكلها فقط | (ج) تصبح رمادًا | (د) تتحول إلى سائل |
| ٥ | أي من العمليات التالية يُغير المادة إلى مادة أخرى مختلفة؟ | (أ) التمزيق | (ب) الطي | (ج) الاحتراق | (د) الثني |
| ٦ | ما هو التعريف الصحيح للمخلوط كما ورد في الدرس؟ | (أ) مادة واحدة فقط لا تتغير | (ب) شينان أو أشياء مختلفة توجد مجتمعة معًا | (ج) سائل يتحول إلى غاز | (د) مادة صلبة تذوب دائمًا في الماء |
| ٧ | ماذا نسمي امتزاج المادة كليًا بالسائل؟ | (أ) التبخر | (ب) التجمد | (ج) الذوبان | (د) الطفو |
| ٨ | ماذا يحدث عند خلط الزيت مع الماء؟ | (أ) يذوب الزيت في الماء تمامًا | (ب) يغوص الزيت في قاع الكأس | (ج) يتحول الماء إلى ثلج | (د) لا يختلطان ويطفو الزيت فوق الماء |
| ٩ | ما هو التعريف الصحيح للموقع؟ | (أ) هو مكان الجسم مقارنة بمكان جسم آخر | (ب) هو سرعة الجسم أثناء الجري | (ج) هو شكل الجسم ولونه | (د) هو تغير حالة الجسم من الصلب للسانل |

عندما نصف حركة الجسم بأنها سريعة أو بطيئة، فإننا نتحدث عن:

١٠

(د) السرعة

(ج) الاتجاه

(ب) الموقع

(أ) المسافة


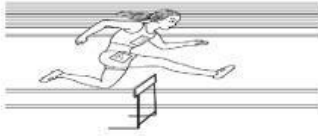

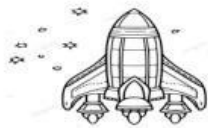

٥

السؤال ٢: ضع علامة (✓) أو (X) أمام العبارات التالية:

| # | العبارة | الإجابة |
|---|--|---------|
| ١ | الماء والعصير من المواد الصلبة. | () |
| ٢ | يحتاج الشئ الثقيل الى قوة كبيرة لتحريكه | () |
| ٣ | طي الورقة يغيرها إلى مادة مختلفة تماماً. | () |
| ٤ | المخلوط يتكون دائماً من مادة واحدة فقط. | () |
| ٥ | القوى التي تبطء حركة الاجسام هي الاحتكاك | () |

٥

السؤال ٣: صل بين العمودين: صل بين العمود (أ) والعمود (ب)

| # | العمود (أ) | العمود (ب) |
|---|---|------------------------|
| ١ |  | تتحرك للأمام والخلف |
| ٢ |  | يتحرك في خط مستقيم |
| ٣ |  | تتحرك بسرعة كبيرة جداً |
| ٤ |  | تتحرك حركة دورانية |
| ٥ |  | يتحرك في خط متعرج |

انتهت الأسئلة ... بالتوفيق اعداد معلمة المادة / بسمة ال حسن

