

الأشكال ثنائية الأبعاد



صل بين الشكل و اسمه :



1 . مثلث



2 . متوازي اضلاع



3 . مستطيل



4 . شبه منحرف



5 . مربع



6 . خماسي الأضلاع


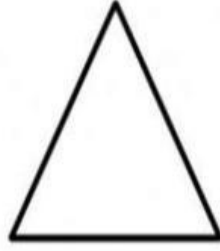



7 . دائرة



8 . سداسي الأضلاع

1 . أكتب اسم الشكل .



حل المسألة

زايدٌ قَصَّ شِكْلا وَأَصَفَهَ عَلى صِوَرَةٍ .
بدا الشكْلُ شَبِيهاً بِقَمْعِ المَثَلِجاتِ .
ما الشكْلُ الَّذي قامَ بِقِصِّهِ ؟
