

Kelas :

Nama :

PERBEDAAN LENSA

Perhatikan video yang akan diputar di depan kelas, kemudian tentukan perbedaan di antara kedua Lensa!

Lensa adalah



NAMA LENSA



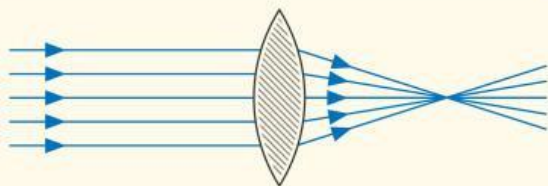
NAMA LENSA

CIRI-CIRI LENSA

1 Melengkung ke _____

2 Bagian luar lebih _____

3 Bagian dalam lebih _____



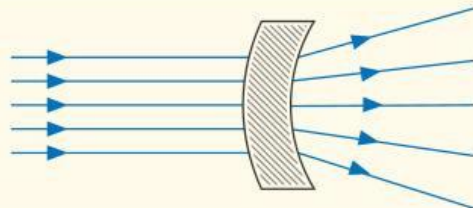
4 Sinar bayangan _____, sehingga bayangan _____

CIRI-CIRI LENSA

1 Melengkung ke _____

2 Bagian luar lebih _____

3 Bagian dalam lebih _____



4 Sinar bayangan _____, sehingga bayangan _____

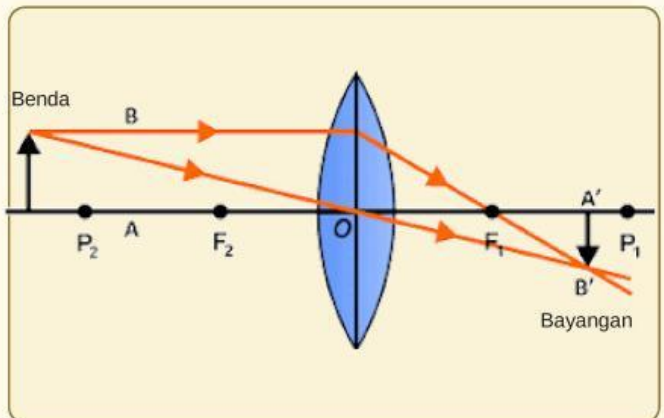
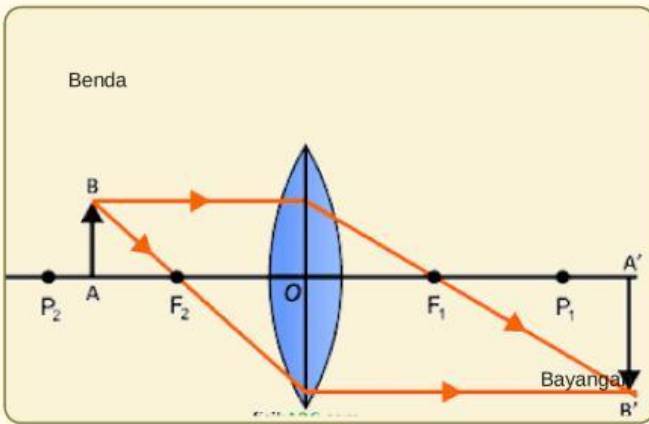
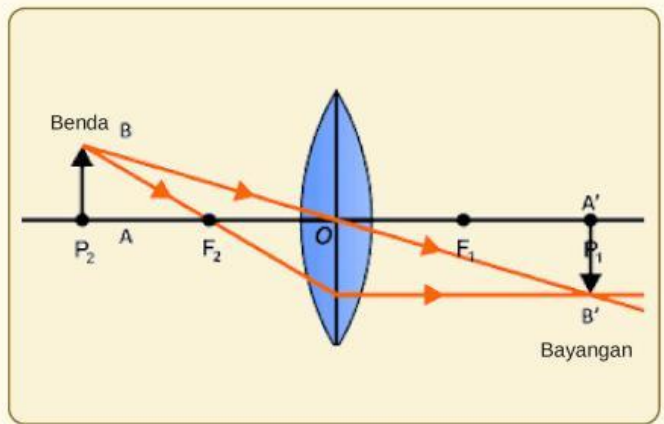
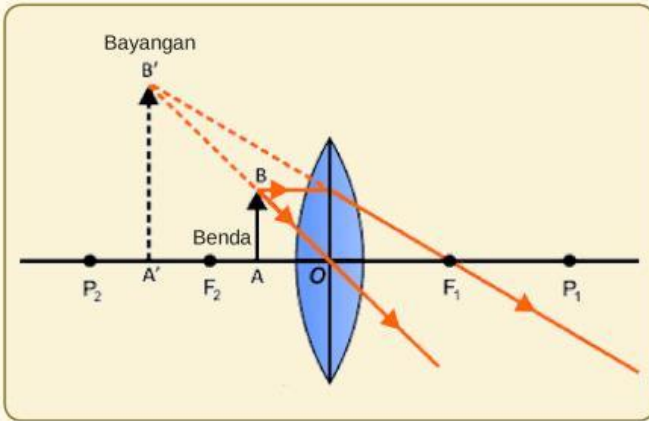
PEMANFAATAN LENS

Identifikasilah jenis lensa yang tepat pada gambar di bawah ini!



PEMBENTUKAN BAYANGAN PADA LENS CEMBUNG

Tentukan sifat bayangan yang terbentuk sesuai dengan gambar yang disajikan
(Pilih keterangan yang telah disediakan di dalam kotak di bawah ini!)



Pembentukan bayangan pada lensa cekung

Tentukan sifat bayangan yang terbentuk sesuai dengan gambar yang disajikan
(Pilih keterangan yang telah disediakan di dalam kotak di bawah ini!)

