

BENTANG ALAM

Perhatikan video berikut ini!



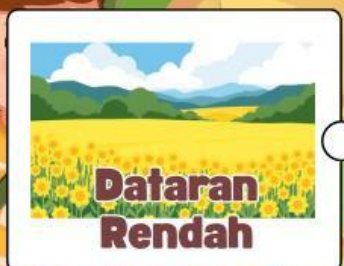

Nama:

Kelas:

BENTANG ALAM Indonesia



Tariklah garis untuk menghubungkan nama bentang alam dengan ciri-cirinya yang tepat!



Daerah yang menjadi pembatas antara darat dan laut.

Wilayah perairan yang dikelilingi oleh daratan.

Wilayah datar yang tingginya kurang dari 200 meter.

Permukaan bumi yang menjulang sangat tinggi.

Aliran air yang mengalir menuju laut.

Nama : _____ Kelas : _____

MENCOCOKKAN BENTANG ALAM DAN MANFAATNYA



PETUNJUK

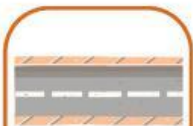
Pasangkan gambar bentang alam dengan manfaat yang sesuai!



Gunung



Sungai



Dataran



Danau



Pantai



Teluk

sumber air

pelabuhan

pemukiman

irigasi

wisata

batas darat dan laut