

## Тапсырмалар

1. Егер  $3x + 5 = 20$  болса,  $x$  мәні:

- A) 3
- B) 5
- C) 7
- D) 10

2. Қатар: 2, 6, 18, 54, ... келесі сан қандай?

- A) 72
- B) 108
- C) 162
- D) 216

3. Егер барлық мысықтар жануар, ал кейбір жануарлар қара болса, онда:

- A) Барлық мысықтар қара
- B) Кейбір мысықтар қара
- C) Мысықтар міндетті түрде қара емес
- D) Барлық жануарлар мысық

4. 5 адам бір-бірімен қол алысса, неше қол алысу болады?

- A) 5
- B) 10
- C) 15
- D) 20

5. Барлық тақ сандар жай сан.

Жауабы:

6. Егер  $a > b$ , онда  $a + c > b + c$ .

Жауабы:

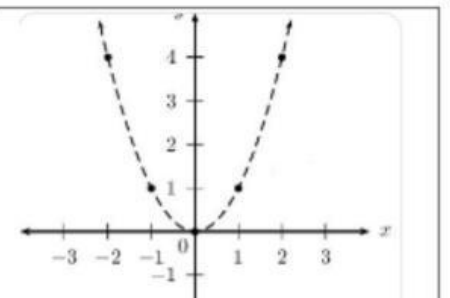
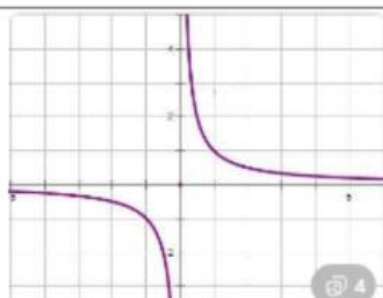
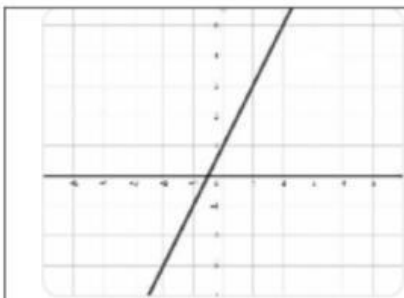
7. Үшбұрыштың бұрыштарының қосындысы  $180^\circ$ .

Жауабы:

8. Сәйкестендіріңіз

Тізбектер	Зандылық
2,4,6,8	Әр сан 2-ге көбейеді
3,6,12,24	Әр санға 2 қосылады
5,10,20,40	Әр сан екіге еселенеді

9. Дұрыс жауапты сәйкестендіріңіз



$$y=x^2$$

$$y=2x+1$$

$$y=1/2$$