

1. Media sosial adalah...
  - A. Sarana komunikasi tradisional
  - B. Platform digital untuk interaksi dan berbagi konten
  - C. Media cetak seperti koran dan majalah
  - D. Alat transportasi modern
  
2. Media sosial merupakan hasil dari teknologi, dihasilkan dari apakah media sosial tersebut...
  - A. Teknologi cetak
  - B. Teknologi digital dan internet
  - C. Teknologi transportasi
  - D. Teknologi pertanian
  
3. Komunitas virtual berjalan di...
  - A. Dunia nyata
  - B. Dunia maya (internet)
  - C. Perpustakaan
  - D. Televisi
  
4. Media sosial sering disebut... , dan memiliki tujuan...
  - A. Media tradisional, untuk hiburan
  - B. Media digital, untuk interaksi sosial
  - C. Media cetak, untuk informasi
  - D. Media transportasi, untuk mobilitas
  
5. Fitur yang digunakan pada aplikasi media sosial adalah...
  - A. Chat, komentar, berbagi konten
  - B. Mesin cetak, konten creator, audio
  - C. Televisi, video, komentar
  - D. Radio, chat, podcast
  
6. Konten yang dapat dibuat oleh user di media sosial adalah...
  - A. Foto, video, tulisan, musik
  - B. Buku cetak, podcast, audio
  - C. Siaran radio, music, video
  - D. Film bioskop, artikel, foto
  
7. Contoh media sosial *blog/web blog* adalah...
  - A. WordPress
  - B. Facebook
  - C. Instagram
  - D. TikTok
  
8. Contoh media sosial *forum* adalah...
  - A. Kaskus
  - B. YouTube
  - C. Twitter
  - D. Pinterest
  
9. Contoh media sosial *photo sharing* adalah...
  - A. Instagram
  - B. WordPress
  - C. Twitter
  - D. Kaskus
  
10. Contoh media sosial *social network* adalah...
  - A. Facebook
  - B. Kaskus
  - C. WordPress
  - D. YouTube
  
11. Seorang siswa membuat video edukasi lalu membagikan kepada teman-temannya agar mereka bisa belajar bersama secara online. Berdasarkan kegiatan tersebut, fungsi media sosial yang paling tepat adalah...
  - A. Sarana hiburan semata
  - B. Media penyimpanan data pribadi
  - C. Sarana berbagi informasi dan pengetahuan
  - D. Media untuk bermain game saja
  
12. Sita sering menggunakan media sosial untuk berdiskusi dengan teman dari berbagai negara tentang pelajaran. Hal ini menunjukkan bahwa media sosial dapat... .

- A. Membatasi komunikasi antar pengguna
- B. Menghubungkan orang tanpa batas jarak dan waktu
- C. Menggantikan seluruh fungsi sekolah
- D. Mengurangi interaksi antar manusia

13. Seorang pengguna mengunggah foto kegiatan sekolah di media sosial tanpa izin teman-temannya. Dampak yang mungkin terjadi dari tindakan tersebut adalah... .

- A. Melanggar privasi orang lain
- B. Meningkatkan keamanan data pribadi
- C. Membantu menjaga kerahasiaan informasi
- D. Mengurangi penggunaan internet

14. Seorang siswa mendapatkan informasi yang belum jelas kebenarannya dari media sosial. Tindakan yang paling tepat adalah... .

- A. Langsung membagikannya kepada teman
- B. Menghapus semua akun media sosial
- C. Memeriksa kebenaran informasi dari sumber terpercaya
- D. Menyebarkannya agar cepat terkenal

15. Seorang siswa ingin membagikan tutorial belajar dalam bentuk video, agar mudah dipahami banyak orang. Jenis media sosial yang paling tepat digunakan adalah... .

- A. Video sharing
- B. Forum diskusi
- C. Microblog
- D. Blog teks

16. Jika seseorang menggunakan media sosial secara berlebihan hingga mengabaikan tugas sekolah dan waktu istirahat, hal tersebut menunjukkan... .

- A. Pemanfaatan media sosial secara bijak
- B. Manfaat utama media sosial
- C. Tujuan utama teknologi internet
- D. Dampak negatif penggunaan media sosial

17. Gambar di bawah ini menunjukkan... .

	A	B	C
1			
2			
3			

- A. Column
- B. Row
- C. Cell
- D. Range

18. Gambar di bawah ini menunjukkan... .




	A	B	C	D	E
1					
2					
3					
4					
5					
6					

- A. Column
- B. Row
- C. Cell
- D. Range

19. Langkah untuk membuat garis/border pada pembuatan tabel di aplikasi microsoft excel dengan menggunakan shortcut key pada keyboard adalah... .

- A. Ctrl + C
- B. Ctrl + I
- C. Ctrl + V
- D. Ctrl + 7

20. Jika ingin membuat urutan data tabel penomoran pada aplikasi microsoft excel secara otomatis mengurutkan sampai jumlah yang diinginkan, maka mouse pointer harus menunjukkan gambar seperti di bawah ini... .

- A. 
- B. 
- C. 
- D. 