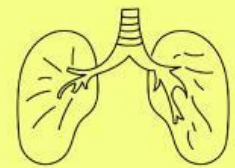
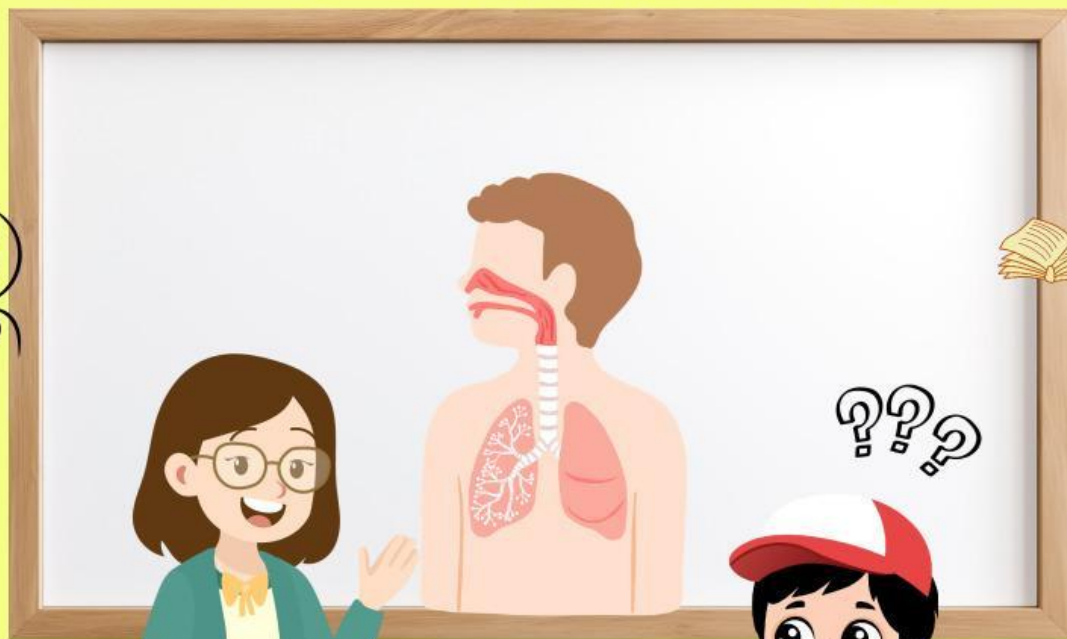


Lembar Kerja Peserta Didik

# LKPD IPAS



MENGENAL ORGAN PERNAPASAN

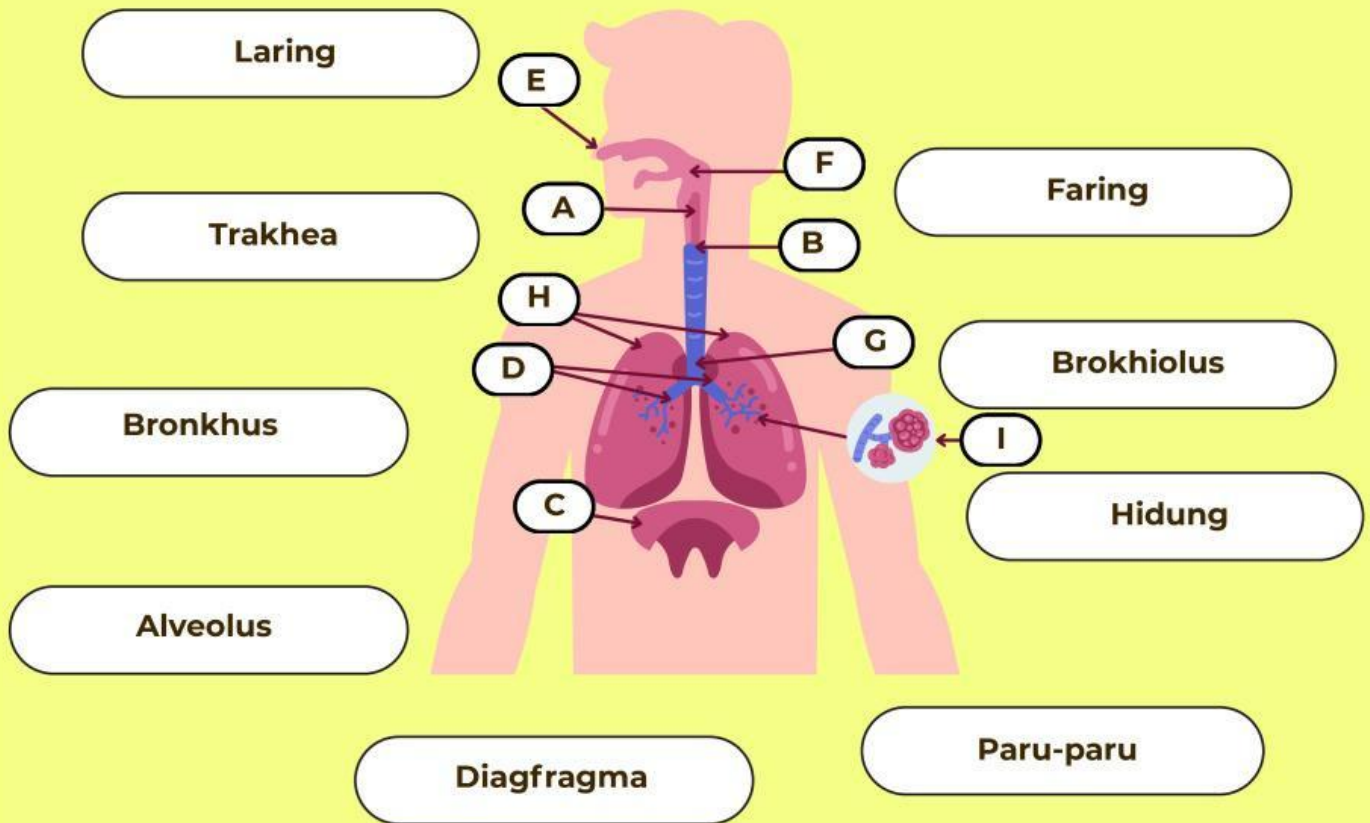


Nama :

Kelas :

# Organ Pernapasan Manusia

A. Tariklah garis pada bagian-bagian organ pernapasan sesuai dengan huruf Alfabet di bawah ini!



# Organ Pernapasan Manusia

Jawablah pertanyaan di bawah ini dengan baik dan benar!

B. Menganalisis dan menghubungkan ke dalam kehidupan sehari-hari



Naya sering bernapas melalui mulut saat bermain. Menurutmu, apakah kebiasaan ini baik? Jelaskan alasanmu!  
Jawaban:



Jika hidung tidak berfungsi dengan baik, Apa yang akan terjadi pada proses pernapasan?  
Jawaban:



Mengapa kita dianjurkan memakai masker saat di tempat berdebu?  
Jawaban:



Apa hubungan olahraga dengan kesehatan paru-paru?  
Jawaban: