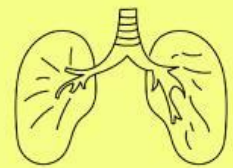
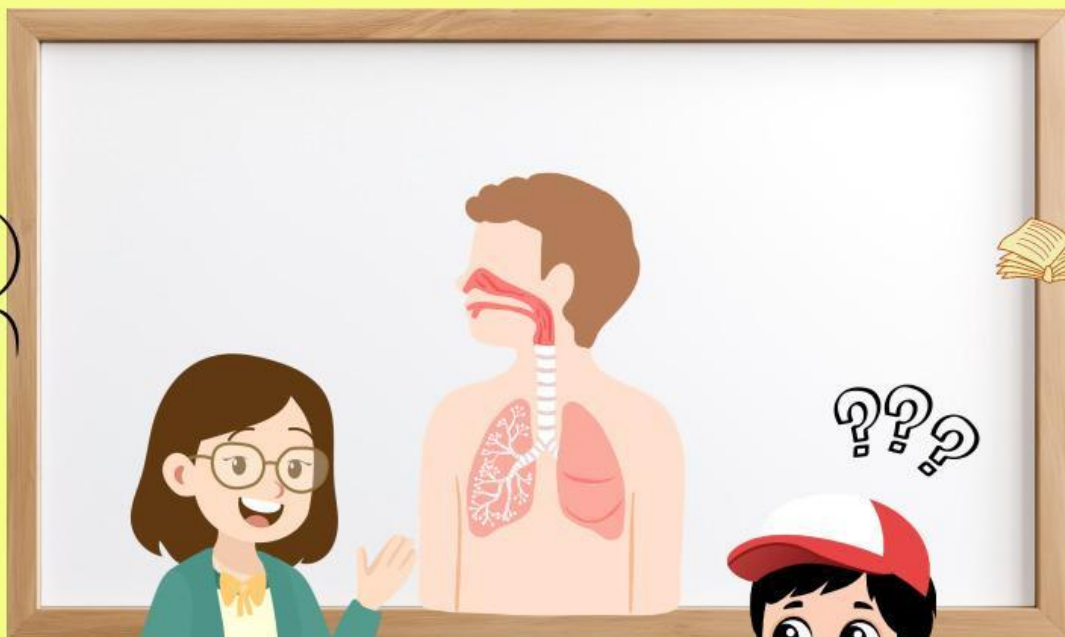


Lembar Kerja Peserta Didik

LKPD IPAS



MENGENAL ORGAN PERNAPASAN

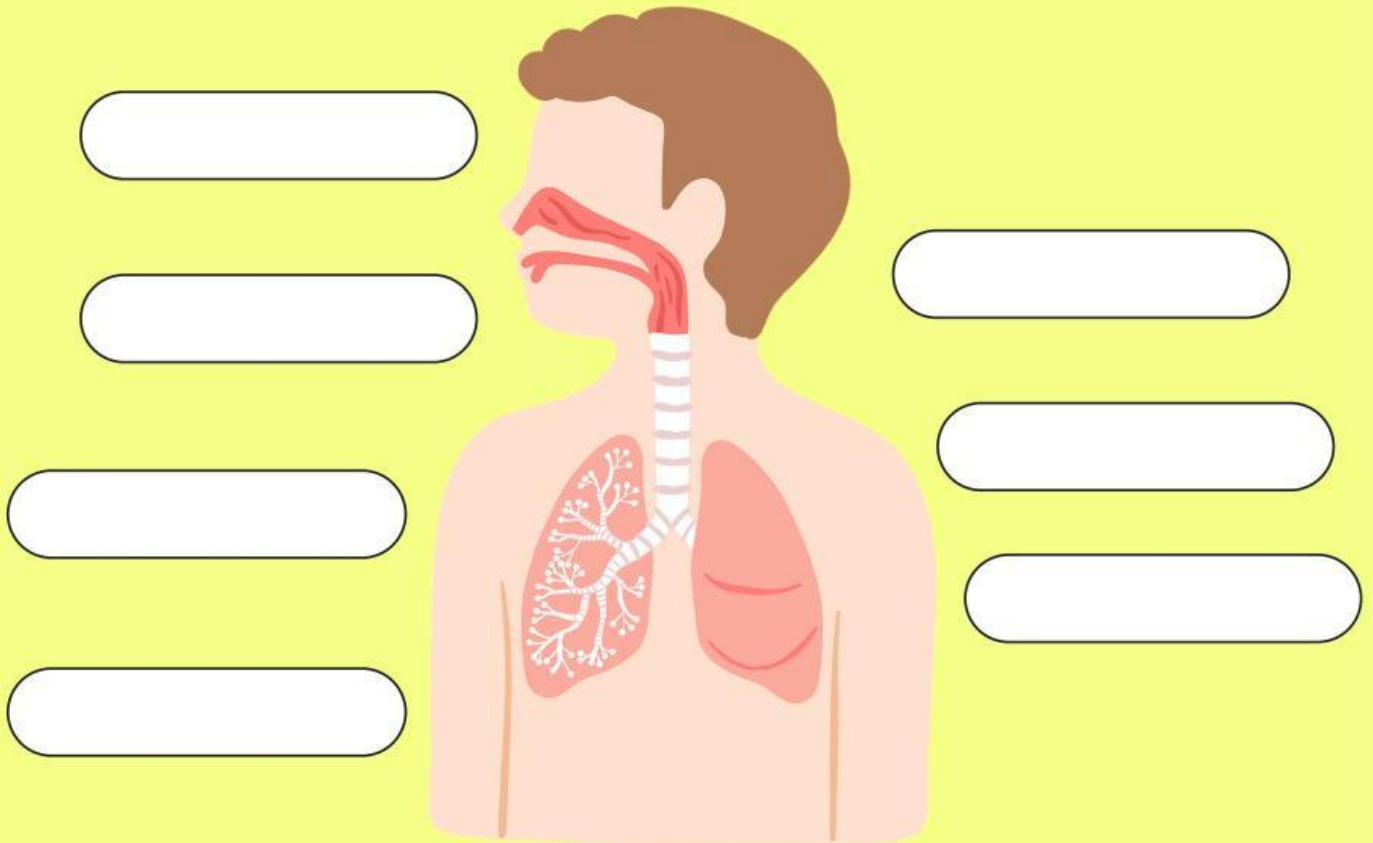


Nama :

Kelas :

Organ Pernapasan Manusia

A. Tunjukkan bagian-bagian organ pernapasan sesuai dengan gambar di bawah ini!
Tempel dan berikan tanda panah



Gunting nama organ pernapasan berikut untuk melengkapi gambar di atas

Luring

Trakhea

Brokhiolus

Hidung

Bronkhus

Alveolus

Faring

Paru-paru

Organ Pernapasan Manusia

Jawablah pertanyaan di bawah ini dengan baik dan benar!

B. Menganalisis dan menghubungkan ke dalam kehidupan sehari-hari



Naya sering bernapas melalui mulut saat bermain. Menurutmu, apakah kebiasaan ini baik? Jelaskan alasanmu!
Jawaban:



Jika hidung tidak berfungsi dengan baik, Apa yang akan terjadi pada proses pernapasan?
Jawaban:



Mengapa kita dianjurkan memakai masker saat di tempat berdebu?
Jawaban:



Apa hubungan olahraga dengan kesehatan paru-paru?
Jawaban: