

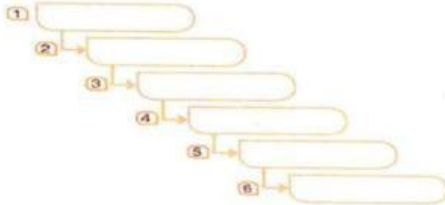
El órgano de la audición es:

- Ojo
- Globo
- Gusto
- Olfato
- Oído

El oído se divide en tres partes. ¿Cuáles son?



Escribe los nombres de las partes del oído según el recorrido del sonido.



Explica de manera breve cómo funciona cada parte del oído en el proceso de audición

.....

.....

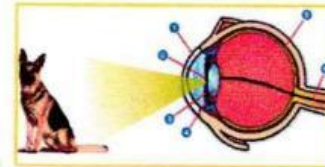
.....

¿Cómo hacemos daño al sentido del oído?

¿Qué cuidados debemos tener con el sentido de la audición?

Cuando un rayo de luz ingresa al ojo recorre las siguientes estructuras en este orden:

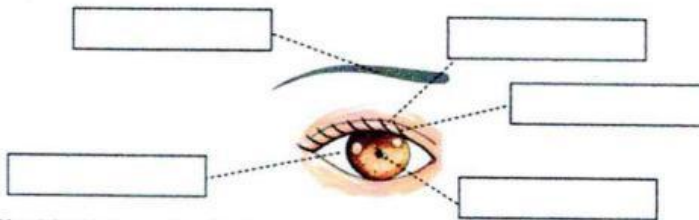
- _____ membrana delgada que cubre al iris.
- _____ permite que la luz ingrese al ojo
- _____ regula la cantidad de luz que ingresa.
- _____ permite enfocar la imagen
- _____ contiene los receptores
- _____ conduce los impulsos nerviosos al cerebro cristalino retina nervio óptico



Plantea una acción para proteger cada órgano del sentido de la vista

- Vista _____

Señala las partes del ojo y menciona:



¿Cuál es la función del cristalino y la retina?

Observa tus ojos y los de tus compañeros:

- ¿De qué color son tus pupilas?.....
- ¿De qué color son tus iris?.....
- ¿Son todas las pupilas del mismo color?
- ¿Qué colores de iris conoces?

AVERIGUA ¿Qué enfermedades pueden atacar a nuestra vista?

.....