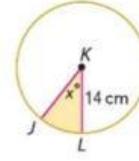




تعطى المساحة A لكل منطقة مظللة. جد قيمة x.



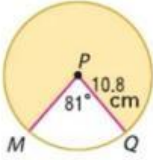
28. $A = 94 \text{ cm}^2$



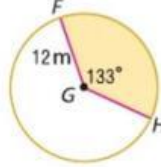
جد مساحة كل قطاع مظلل وقربها إلى أقرب جزء من عشرة إذا لزم الأمر.



23.



20.



 LIVEWORKSHEETS

 LIVEWORKSHEETS